



# 수력충전

기본



초등 수학 1·1



# 수력충전의 차례

## 1 9까지의 수 ..... 8

- 1부터 5까지의 수 알아보기
- 6부터 9까지의 수 알아보기
- 몇째인지 알아보기
- 수의 순서 알아보기
- 1만큼 더 큰 수와 1만큼 더 작은 수, 0 알아보기
- 수의 크기 비교하기

\* 서술형 대비 문제

\* 단원 평가 1회

\* 단원 평가 2회

## 3 덧셈과 뺄셈 ..... 62

- 모으기와 가르기 (1)
- 모으기와 가르기 (2)
- 그림을 보고 덧셈과 뺄셈 관련된 이야기 만들기
- 더하기 나타내기
- 덧셈을 여러 가지 방법으로 알아보기
- 빼기 나타내기
- 뺄셈을 여러 가지 방법으로 알아보기
- 0이 있는 덧셈과 뺄셈하기
- 덧셈식과 뺄셈식 만들기

\* 서술형 대비 문제

\* 단원 평가 1회

\* 단원 평가 2회


## 2 여러 가지 모양 ..... 40

- , ○, △ 모양 찾아보기
- 같은 모양끼리 모으기
- , ○, △ 모양 알아보기
- , ○, △ 모양으로 여러 가지 모양 만들기

\* 서술형 대비 문제

\* 단원 평가 1회

\* 단원 평가 2회





## 4 비교하기 ..... 108

- 1 길이 비교하기
- 2 무게 비교하기
- 3 넓이 비교하기
- 4 담을 수 있는 양 비교하기
- 5 담긴 양 비교하기
- \* 서술형 대비 문제
- \* 단원 평가 1회
- \* 단원 평가 2회

## ◆ 별책부록 ..... 정답 및 풀이

## 5 50까지의 수 ..... 134

- 1 10 알아보기
- 2 십몇 알아보기
- 3 19까지의 수 모으기
- 4 19까지의 수 가르기
- 5 10개씩 묶어 세기
- 6 50까지의 수 알아보기
- 7 50까지의 수의 순서 알아보기
- 8 50까지의 수의 크기 비교하기
- \* 서술형 대비 문제
- \* 단원 평가 1회
- \* 단원 평가 2회

수학은 생각의  
힘을 키우는게  
중요해.




• QR 코드를 찍어 정답을  
빠르게 채점할 수 있습니다.

빨리 채점해요!

• 매일 공부 분량을 정해놓고  
꾸준히 수학 공부하는  
습관을 기를 수 있습니다.

2 일째	틀린 개수	개
공부 한날	월	일



# 수력충전의 구성

STEP

1

## 교과서 개념 학습

### 교과서 개념을 이해하기 쉽게 학습 정리

- ★ 개념을 쉽게 이해할 수 있도록 간단하게 정리했습니다.
- ★ 핵심 포인트는 캐릭터가 한 번 더 설명했습니다.

개념 학습 1. 9까지의 수

**개념 1 1부터 5까지의 수 알아보기**

(1) 물건의 수를 셀 때에는 하나씩 짚어 가며 **하나, 둘, 셋, 넷, 다섯**으로 셉니다.

하나      둘      셋      넷      다섯

(2) 1부터 5까지의 수를 쓰고 읽어 볼까요?

수를 읽는 방법은 두 가지예요.  
3차루 → 3차루  
3번 → 삼번

STEP

2

## 개념 문제 연습

### 개념 이해와 생각을 넓히는 다양한 문제 연습

- ★ **개념 익히기**  
다양한 유형의 기본 문제를 통해 개념을 충실히 익히고 연산 능력을 익힐 수 있습니다.
- ★ **생각 넓히기**  
한 번 더 생각해야 하는 문제로 수학의 생각하는 힘을 키울 수 있습니다.
- ★ **개념 체크**  
빈칸 채우는 문제로 개념을 다시 한번 체크할 수 있습니다.

**개념 익히기**

[1~3] 더 무거운 것에 ○표 하세요.

1 ( ) ( )

2 ( ) ( )

[3~4] 무게를 비교하여 알맞은 말에 ○표 하세요.

3 ( ) ( )  
3는 2보다 더 (무겁습니다, 가볍습니다).

4 ( ) ( )  
4은 3보다 더 (무겁습니다, 가볍습니다).

손으로 들었을 때 어느 것을 드는 게 더 힘이 들지 생각해 보세요.

**생각 넓히기**

19 관계있는 것끼리 이어 보세요.

$6-4=2$     ○ ○ ~~○~~ ~~○~~

$4-2=2$     ○ ○ ○ ○

**개념 체크**

23 그림을 보고 ○를 /으로 지우고 뺄셈을 해 보세요.

○ ○ ○ ○ ○

$5-3=□$







## 수력충전 이렇게 공부하세요!

- 1 하루에 2~4쪽, 매일 20~30분씩 꾸준히 공부하세요.
- 2 개념을 확실하게 이해한 후에 개념 익히기 문제를 풀니다.
- 3 생각 넓히기 문제는 수학 개념을 생각하면서 문제를 풀니다.

4 \*  서술형 대비 문제 는 아래와 같이 연습합니다.

- 대표 문제의 힌트 체크와 풀이 과정을 꼼꼼히 확인하세요.
- 문제를 천천히 읽으며 힌트에 동그라미 체크하고, 중요 조건에 밑줄 그어 보세요.
- 힌트를 통해 식을 세워 해결합니다.
- 연습 문제를 통해 혼자서 한번 더 서술형을 연습해 보세요.

어느 과수원에서 수박을 <sup>조건</sup>작년에는 355개 수확 했고,  
올해는 <sup>조건</sup>작년보다 <sup>힌트</sup>287개 더 많이 수확했다면  
올해 수확한 수박은 모두 몇 개일까요?



힌트와 조건에 표시를 하면 문제가 한눈에 보입니다.  
또, 식을 어떻게 세워야 할지 정리할 수 있습니다.

- 5 틀린 문제는 꼭 다시 풀어 보고 시험을 준비합니다.  
다시 틀리지 않도록 똑같은 개념의 문제를  
한 번 더 풀어보세요.
- 6 단원 평가는 학교 시험처럼 시간을 재어 풀어 보세요.

단원을 마무리하면서  
내 실력을  
확인해 보!



# 9까지의 수

1

단 원

와, 박 속에  
금은보화가  
가득하네.

착한 흥부가  
제비 다리를 고쳐  
주고 선물로  
받았잖아.

그런데  
흥부네 가족은  
모두 몇 명이야?

1부터 9까지의  
수를 배워서  
세어 보자.



# 개념 1 1부터 5까지의 수 알아보기

(1) 물건의 수를 셀 때에는 하나씩 짚어 가며 **하나, 둘, 셋, 넷, 다섯**으로 셉니다.



(2) 1부터 5까지의 수를 쓰고 읽어 볼까요?

	●	●●	●●●	●●●●	●●●●●
쓰기	① 1	① 2	① 3	① 4 ②	① 5 ②
읽기	하나	둘	셋	넷	다섯
	일	이	삼	사	오


수를 읽는 방법은 두 가지예요.  
3자루 ⇨ 세 자루  
3반 ⇨ 삼반

## 개념 익히기

[1~2]

수를 알맞게 셉는 것에 ○표 하세요.

1



하나 둘 셋 넷 다섯

2




하나 둘 셋 넷 다섯

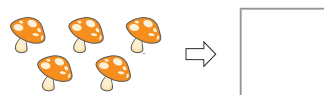
[3~4]

수를 세어 빈칸에 써넣으세요.

3






4






[5~6]

수를 세어 빈칸에 써넣고, 두 가지 방법으로 읽어 보세요.

5




  
 (        ,        )

6




  
 (        ,        )

[7~9]

수만큼 색칠해 보세요.

7

1	
---	---

8

셋	
---	---


9

둘	
---	---

[10~13]

수를 세어 알맞은 수에 ○표 하세요.


10


  
 ( 1 , 2 , 3 , 4 , 5 )


11


  
 ( 1 , 2 , 3 , 4 , 5 )

12


  
 ( 1 , 2 , 3 , 4 , 5 )

13


  
 ( 1 , 2 , 3 , 4 , 5 )





# 6부터 9까지의 수 알아보기

- (1) 물건의 수를 셀 때에는 하나씩 짚어 가며 **여섯, 일곱, 여덟, 아홉**으로 셉니다.
- (2) 6부터 9까지의 수를 쓰고 읽어 볼까요?

쓰기	① 6	① 7 ②	① 8	① 9
읽기	여섯	일곱	여덟	아홉
	육	칠	팔	구

두 가지 방법으로 수를 읽어요.  
 7마리 ⇨ 일곱 마리  
 7반 ⇨ 칠반

## 개념 익히기

[1~2]


수를 알맞게 센 것에 ○표 하세요.

1



여섯   일곱   여덟   아홉

2



여섯   일곱   여덟   아홉


[3~4]

수를 세어 빈칸에 써넣으세요.

3



4

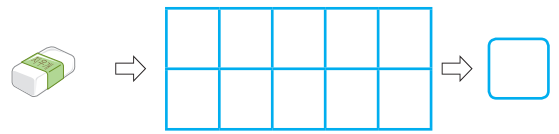






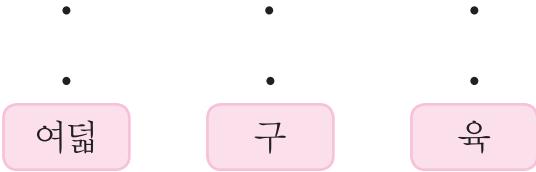



17

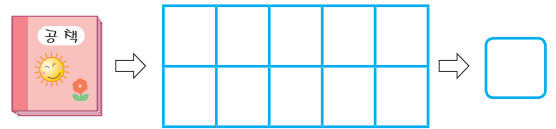


15

관계있는 것끼리 이어 보세요.



18




16

그림을 보고 □ 안에 알맞은 수를 써넣어 이야기를 완성해 보세요.



강아지 훈련사 3명이 강아지 □마리를 훈련시키고 있어요.

19



[17~19]

그림을 보고 알맞은 수만큼 ○를 그리고, □ 안에 알맞은 수를 써넣으세요.



20



□ 안에 알맞은 말을 써넣으세요.

수를 셀 때, 6은 여섯, 7은 □, 8은 여덟, 9는 □으로 씁니다.



2 일째 틀린 개수 개 공부 한날 월 일



[6~8]

왼쪽에서부터 세어 알맞게 색칠해 보세요.

6

셋(삼)

셋째

7

다섯(오)

다섯째

개수를 나타내는 말인지  
순서를 나타내는 말인지  
생각해 보세요.

8

일곱(칠)

일곱째

[9~13]

순서에 알맞게 색칠해 보세요.

9

왼쪽에서 셋째

10

왼쪽에서 여덟째

11

오른쪽에서 넷째

12

위에서  
둘째

13

아래에서  
셋째



생각 넓히기



# 14

순서에 알맞게 이어 보세요.



첫째

# [15~16]

그림을 보고 물음에 답하세요.



첫째

# 15

요리사는 몇째인가요?

( )

# 16

넷째는 누구인가요?

( )

# 17

민지는 몇째로 달리고 있나요?



( )

# [18~19]

순서에 알맞은 그림에 ○표 하세요.

# 18

왼쪽에서 넷째



왼쪽

오른쪽

기준에 따라 순서가 달라지는 것에 주의해야 해요.



# 19

오른쪽에서 다섯째



왼쪽

오른쪽



## 서술형 대비 문제

### 1 대표 문제

주희는 두 계산대 중에서 한 계산대에 줄을 서서 계산하려고 합니다. 주희는 몇 번 계산대에서 계산해야 순서가 빠른지 풀이 과정을 쓰고, 답을 구해 보세요.



#### 풀이

1번 계산대에 서면 오른쪽에서  째이고

2번 계산대에 서면 오른쪽에서  째입니다.

따라서 순서가 빠른 계산대는  번 계산대입니다.


#### 힌트 체크

주희는 두 계산대 중에서 한 계산대에 <sup>2</sup>줄을 서서 계산하려고 합니다. 주희는 몇 번 계산대에서 계산해야 <sup>1</sup>순서가 빠르<sup>2</sup>지 풀이 과정을 쓰고, 답을 구해 보세요.

- ★ 1 '순서가 빠르<sup>2</sup>지' → 계산대에 줄을 서 있는 사람이 적어야 한다는 힌트
- 2 줄 서 있는 사람을 순서대로 세어 봅니다.

#### 답

### 1 연습 문제



정연이는 두 버스 중 한 버스에 줄을 서서 타려고 합니다. 정연이는 몇 번 버스에 줄을 서야 순서가 빠른지 풀이 과정을 쓰고, 답을 구해 보세요.

#### 풀이

.....  
.....  
.....

#### 답

#### 힌트 체크

★ 힌트가 되는 부분에 ○표 하세요!

**2 대표 문제**

바닷가에서 조개 껍질을 재영이는 3개 주웠고 지원이는 8개 주웠습니다. 조개 껍질을 더 많이 주운 사람은 누구인지 풀이 과정을 쓰고 답을 구해 보세요.



**풀이**

수를 순서대로 썼을 때 8은 3보다 (앞, 뒤)에 있으므로 3과 8 중에서 더 큰 수는 입니다.

따라서 조개 껍질을 더 많이 주운 사람은 입니다.

**힌트 체크**


바닷가에서 조개 껍질을 재영이는 3개 주웠고 지원이는 8개 주웠습니다. 조개 껍질을 더 많이 주운 사람은 누구인지 풀이 과정을 쓰고 답을 구해 보세요.

- ★ ① '더 많이' → 두 수 중에서 더 큰 수를 찾으라는 힌트
- ② 3과 8의 수의 크기를 비교합니다.

답

**2 연습 문제**

나연이 어머니께서 시장에서 당근 8개, 가지 7개, 파프리카 5개를 사 오셨습니다. 나연이 어머니께서 가장 적게 산 것은 무엇인지 풀이 과정을 쓰고, 답을 구해 보세요.



**풀이**

.....

.....

.....

답

**힌트 체크**

★ 힌트가 되는 부분에 ○표 하세요!

빨리 채점해요!



7 일째

틀린 개수

공부 한 날

월



7

선물 상자의 수를 세어 알맞은 수에  
○표 하세요.



( 6 , 7 , 8 , 9 )

8 시험에 꼭!

□ 안에 알맞은 수를 써넣으세요.




(1) 8보다 1만큼 더 작은 수는 □입니다.

(2) □보다 1만큼 더 큰 수는 5입니다.

9


다섯째로 높이 올라간 사람의 번호를  
써 보세요.



( )

10

그림을 보고 □ 안에 알맞은 수를  
써넣으세요.

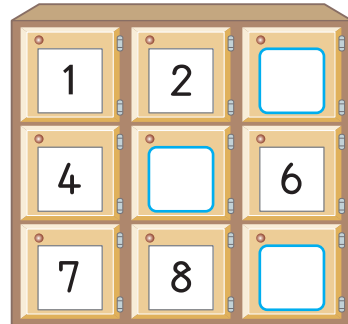


(1) 자동차가 □ 대 있습니다.

(2) 사람이 □ 명 있습니다.

11 시험에 꼭!

사물함 번호를 수의 순서대로 써넣으세요.



12 시험에 꼭!

연필을 건후는 4자루 가지고 있고 나영이는  
9자루 가지고 있습니다. 연필을 더 많이  
가지고 있는 사람은 누구일까요?

( )