

자이스토리

Xi
story

Xistory stands for eXtra Intensive story for
the University Entrance Examination.

통합사회 1





구성과 특징

8종 교과서 완벽 총정리로
학교 시험과 수능을 대비한다!

1 개념 정리 - 8종 교과서 수록 개념 총정리

2022 개정 교육과정 8종 교과서를 분석하여 풍부한 자료를 통해 핵심 개념을 완벽하게 이해할 수 있게 했습니다.

- **개념 강의 동영상**: 생생한 개념 강의를 통해 쉽게 개념 학습을 할 수 있습니다.
- **개념 체크 문제**: 문제를 통해 개념을 정확히 이해했는지 다양한 유형의 기본 문제로 확인할 수 있습니다.
- **중요도**: 난이도와 빈출 정도를 중요도로 나타냈습니다.
- **개념+, 용어+, 암기+**: 개념의 이해와 암기를 돕는 tip을 알려줍니다.



08 문화 변동과 전통문화

1 문화 변동의 양상

1. 문화 변동의 의미: 새로운 요소가 등장하거나 다른 문화 요소와의 접촉을 통해 한 사회의 문화가 끊임없이 변화하는 현상

2. 문화 변동의 요인

내재적 요인	· 발견: 기존에 있던 것을 새롭게 알아보는 것
외재적 요인 (문화 전파)	· 직접 전파: 서로 다른 사회 구성원 간 직접적인 접촉으로부터 문자, 종교의 전파 · 간접 전파: 인쇄물이나 인터넷, TV 등의 매체를 통해 TV 드라마를 통한 유행의 전파 · 자극 전파: 다른 문화로부터 아이디어를 얻어 새 문화의 탄생 → 이두의 발명

3. 내재적 요인: 한 사회 내부에서 문화 요소가 새로운 동경과 접의 변동을 초래하는 요인이다.

4. 그림의 A~C는 문화 변동의 양상이다. 옳은 설명은 ○, 틀린 것은 ×에 표시하십시오.

어느 하나의 문화가 새로운 문화

2 출제 0순위 특강 - 시험에 꼭 출제되는 개념, 자료 특강

시험에 자주 출제되는 핵심 개념, 자료를 분석하여 이해하기 쉽게 설명하였습니다.

- **출제 0순위 포인트**: 실제 시험에 어떤 유형으로 출제되는지 대비법은 무엇인지 자세하게 알려줍니다.
- **확인 문제**: 특강 내용에서 꼭 알아야 하는 핵심 포인트를 제대로 이해했는지 문제로 확인합니다.

출제 0순위 특강

인간 중심주의와 생태 중심주의 비교

자연을 바라보는 인간의 관점은 대표적으로 인간을 중심으로 놓고 자연을 바라보는 인간 중심주의와 자연을 중심으로 놓고 사고하는 생태 중심주의가 있다.

1. 인간 중심주의

- 인간을 가장 가치 있는 존재로 여기고, 인간과 자연의 관계에서 인간의 이익이나 행복을 먼저 고려하는 관점이다.

출제 0순위 포인트는?

- 인간은 자연보다 우월하고, 자연과 분리된 존재이며, 자연은 인간을 위한 도구라는 표현이 나오면 인간 중심주의 자연관!
- 반면, 인간은 자연의 일부이고,

확인 문제

다음 내용이 옳으면 ○, 틀리면 ×에 표시하십시오.

1 인간 중심주의는 인간을 포함한 자연 전체를 하나로 보는 전인본적 관점이다. (○, ×)

2 인간 중심주의는 인간과 자연이 서로 영향을 주고받는 생명 공동체임을 강조한다. (○, ×)

3 생태 중심주의는 자연의 내재적 가치를 강조하고, 인간 중심주의는 자연의 도구적 가치를 강조한다. (○, ×)

4 생태 중심주의는 오늘날의 환경 문제를 해결하는 데 도움이 된다. (○, ×)

3 내신 대비 필수 문제 + 대단원 마무리 문제 + 단원별 TEST (내신+수능 대비)

- **내신 대비 필수 문제**: 학교시험 100점을 위한 실전 문제와 학력평가 기출 문제로 구성했습니다.
- **대단원 마무리 문제**: 단원별 대표 문제로 구성하여 개념을 적용하고 응용하는 실력을 키울 수 있습니다.
- **단원별 TEST (내신+수능 대비)**: 학교 시험과 수능 대비를 할 수 있는 유형의 문제로 구성하여 실력을 테스트할 수 있습니다.

중요 시험에 잘 나오는 문제는 중요 표시와 함께 첨삭 해설 제공

*** 상난이도 *** 중난이도 *** 하난이도

* 출처표시: 수능·평가원 - 대비년도, 교육청 - 실시년도

예) 2023 실시 6월 학평 1: 2023년 6월에 실시한 고1 학력평가
2024 대비 수능 1: 2023년 실시한 고3 수능
2024 대비 6월 모평 1: 2023년 6월에 실시한 고3 모의평가

표시 없는 문제: 내신 기출 변형 문제

내신 대비 필수 문제

★ 학교시험 100점을 위한 실전 문제와 학평 문제

1 자연환경이 인간 생활에 미치는 영향

01 *** 인터넷 계층의 질문에 대해 옳지 않은 답변을 한 학생은?

다음은 어느 두 지역의 음식을 나타낸 것이다. (가), (나) 지역에 대한 설명으로 옳은 것은?

03 *** 2021 실시 9월 학평 17

자료는 어느 지역의 지리 정보이다. 이에 해당하는 지역의 지도의 A~E에서 고른 것은?

대단원 마무리 문제

III. 자연환경과 인간

04 자연환경과 인간 생활

01 *** (가), (나) 유형의 기층이 나타나는 지역에 대한 설명으로 옳은 것은?

04 *** 밑줄 친 '이 기층' 지역의 지도의 A~E에서 고른 것은?

북극과 남극 주변에 분포하는 이 기층 지역은 겨울이 길고 몹시 추위 인간이 거주하기에 불리하다. 이러한 기후 특성으로 주민들은 수렵 생활을 하고, 순록을 조식하여 사육한다.

4 수능 유형 특강+수능 대비 기출 문제 - 고1 부터 수능 유형 익히기

· 수능 유형 특강 (2028 수능 예시문항 포함)

- 단서+발상과 수능의 대표 출제 유형을 통해 문제에 접근하는 방법을 알려줍니다.
- 유형 분석, 문제+자료 분석, 유형 대비법을 통해 실제 시험에 어떻게 적용하는지 알려줍니다.
- 빈칸 채우기를 통해 집중력 있게 학습할 수 있게 도와줍니다.

· 수능 대비 기출 문제

- 고3 학력평가, 모의평가, 수능 기출 문제를 풀어 보면서 수능 문제에 대한 감을 익힐 수 있습니다.
- 고1 학생들에게 적합한 난이도의 수능 대비 기출 문제를 선별하여 수록했습니다.

* 2024년 9월 26일 발표
2028 수능 예시문항 + 해설 수록

수능 대비 기출 문제 I. 통합적 관점

* 인간과 사회에 대한 윤리적 관점

다음 출제문 2곳의 밑줄에 나타난 사회 현상을 바라보는 관점을 파악하고, 선의 중에서 해당 관점에 부합하는 관점을 찾아, 왼쪽으로 주로 속해한다.

가)에 해당하는 관점도 가장 적합한 것은? 정답: ①

정답: ①
① 인간과 사회에 대한 윤리적 관점
② 인간과 사회에 대한 윤리적 관점
③ 인간과 사회에 대한 윤리적 관점
④ 인간과 사회에 대한 윤리적 관점

정답: ②
② 인간과 사회에 대한 윤리적 관점
③ 인간과 사회에 대한 윤리적 관점
④ 인간과 사회에 대한 윤리적 관점

정답: ③
③ 인간과 사회에 대한 윤리적 관점
④ 인간과 사회에 대한 윤리적 관점

정답: ④
④ 인간과 사회에 대한 윤리적 관점
⑤ 인간과 사회에 대한 윤리적 관점

특별 부록 2028학년도 대학

* 2024년 9월 26일 발표

01

행복에 대한 사상 사상이 같, 들의 입장으로 옳은 것만을 (나) 있는 대로 고른 것은?

① 가: 행복이란 무엇인지 알지만 인간의 고귀한 가치를 알지 못한다. 인간이 추구할 만한 가치가 있다고 믿는다. 인간이 추구할 만한 가치를 알지만 인간이 추구할 만한 가치가 있다고 믿는다. 인간이 추구할 만한 가치를 알지만 인간이 추구할 만한 가치가 있다고 믿는다. 인간이 추구할 만한 가치가 있다고 믿는다.

② 가: 행복이란 무엇인지 알지만 인간의 고귀한 가치를 알지 못한다. 인간이 추구할 만한 가치가 있다고 믿는다. 인간이 추구할 만한 가치를 알지만 인간이 추구할 만한 가치가 있다고 믿는다. 인간이 추구할 만한 가치가 있다고 믿는다.

③ 가: 행복이란 무엇인지 알지만 인간의 고귀한 가치를 알지 못한다. 인간이 추구할 만한 가치가 있다고 믿는다. 인간이 추구할 만한 가치를 알지만 인간이 추구할 만한 가치가 있다고 믿는다. 인간이 추구할 만한 가치가 있다고 믿는다.

④ 가: 행복이란 무엇인지 알지만 인간의 고귀한 가치를 알지 못한다. 인간이 추구할 만한 가치가 있다고 믿는다. 인간이 추구할 만한 가치를 알지만 인간이 추구할 만한 가치가 있다고 믿는다. 인간이 추구할 만한 가치가 있다고 믿는다.

정답: ①

5 정답 및 해설 - 정확하고 명쾌한 해설

- 입체 **침사** 중요한 내신 문제와 수능 대비 기출 문제는 입체 침사를 통해 더욱 쉽고 명쾌하게 알려줍니다.

단서+발상 제시된 단서를 통해 문제 유형에 맞는 풀이 방법을 찾아 적용하는 단계를 체계적으로 알려줍니다.

문제+자료 분석 제시된 자료를 분석하고 정답을 도출하기까지의 과정을 제시해 줍니다.

선택지 분석 선택지별로 정답과 오답인 이유를 알기 쉽게, 자세하게 설명해 줍니다.

목표, 방향 문제를 풀 때 암기해야 할 부분과 함정에 빠지는 부분을 체크해줍니다.

오해 틀렸나? 잘 틀리는 이유와 대처법을 알려줍니다.

자연환경과 인간

04 자연환경과 인간 생활

* 내신 대비 필수 문제

문제면 53~56p

01 정답 ① * 기후와 음식 문화

문제 + 자료 분석

가: 냉대 또는 현대 기후 지역의 음식 문화이다.
나: 비농사가 이루어지는 현대 기후 지역의 음식 문화이다.

선택지 분석

① 현대 기후는 열대 또는 현대 기후가 포함된다.
② 현대 기후는 열대 또는 현대 기후가 포함된다. 쌀이 많이 생산되는 지역은 계절풍 기후 지역(열대, 온대)이다.
③ 현대 기후는 열대 또는 현대 기후보다 저위도에 위치하여 연평균 기온이 높다.
④ 온대이상은 열대 기후 지역에서 활발하게 이루어진다. 현대 기후 지역은 겨울이 길고 추위 적응을 해야 어렵다.

02 정답 ① * 건조 기후

문제 + 자료 분석

이 지역, 고대 인위에서 낙타를 끌고 가는 장면, 갈수량보다 증발량이 많음, 온도를 강하게 할 수 있는 형태의 활형한 웃웃 짐을 → 건조(사막) 기후 지역

선택지 분석

① 건조 기후 지역에서는 물이 부족하지만 물을 구할 수 있는 오아시스 주변에서는 대우이자를 재배한다.
② 농업이 거의 불가능하여 순박을 유목하는 것은 현대 기후 지역이다.
③ 여름이 고온 다습하여 벼농사가 활발한 것은 현대 기후 지역이다.
④ 풍부한 강수량을 이용하여 동나-무집을 짓는 것은 현대 기후 지역이다.
⑤ 지면의 열과 습기를 피해 고상 가옥을 짓는 것은 열대 기후 지역이다.

*** 사막 기후 지역의 주민 생활**

전통 가옥: 벽이 두껍고 창이 작으며 지붕이 평평한 흙벽돌집

수능 대비 기출 문제 V

문제면 154p

01 정답 ① * 선진국과 개발 도상국의 도시화

그래프의 (가)~(나)에 대한 설명으로 옳은 것만을 (보기)에서 고른 것은? (단, (가)~(나)는 말레이시아, 영국, 탄자니아 중 하나임.)

① 가, 나, ② 가, ③ 나, ④ 가, 나, ⑤ 가, 나, ⑥ 가, 나, ⑦ 가, 나, ⑧ 가, 나, ⑨ 가, 나, ⑩ 가, 나, ⑪ 가, 나, ⑫ 가, 나, ⑬ 가, 나, ⑭ 가, 나, ⑮ 가, 나, ⑯ 가, 나, ⑰ 가, 나, ⑱ 가, 나, ⑲ 가, 나, ⑳ 가, 나, ㉑ 가, 나, ㉒ 가, 나, ㉓ 가, 나, ㉔ 가, 나, ㉕ 가, 나, ㉖ 가, 나, ㉗ 가, 나, ㉘ 가, 나, ㉙ 가, 나, ㉚ 가, 나, ㉛ 가, 나, ㉜ 가, 나, ㉝ 가, 나, ㉞ 가, 나, ㉟ 가, 나, ㊱ 가, 나, ㊲ 가, 나, ㊳ 가, 나, ㊴ 가, 나, ㊵ 가, 나, ㊶ 가, 나, ㊷ 가, 나, ㊸ 가, 나, ㊹ 가, 나, ㊺ 가, 나, ㊻ 가, 나, ㊼ 가, 나, ㊽ 가, 나, ㊾ 가, 나, ㊿ 가, 나

문제 + 자료 분석

말레이시아, 영국, 탄자니아의 도시화 변화

2015년 도시화율은 영국(선진국) > 말레이시아(개발 도상국) > 탄자니아(개발도상국) 순으로 높음

(가) 영국: 선진화가 일찍 시작되어 1970년대 도시화율이 약 80%에 도달한 선진국



차례

I 통합적 관점

01 인간, 사회, 환경을 바라보는 관점 10

- 출제 0순위 특강 [다양한 관점에서 살펴본 햄버거 문화]
- 개념 체크 문제
- 내신 대비 필수 문제

■ 대단원 마무리 문제 19

■ 수능 유형 특강
+ 수능 대비 기출 문제 22

II 인간, 사회, 환경과 행복

02 행복의 의미와 기준 26

- 출제 0순위 특강 [시대와 지역에 따른 행복의 기준]
- 개념 체크 문제
- 내신 대비 필수 문제

03 행복한 삶을 실현하기 위한 조건 34

- 개념 체크 문제
- 내신 대비 필수 문제

■ 대단원 마무리 문제 41

■ 수능 유형 특강 (2028 수능 예시문항 1)
+ 수능 대비 기출 문제 45

III 자연환경과 인간

04 자연환경과 인간 생활 48

- 출제 0순위 특강 [기후에 따른 생활 양식의 차이]
- 개념 체크 문제
- 내신 대비 필수 문제

05 인간과 자연의 관계 58

- 출제 0순위 특강 [인간 중심주의와 생태 중심주의 비교]
- 개념 체크 문제
- 내신 대비 필수 문제

06 환경 문제 해결을 위한 노력 68

- 개념 체크 문제
- 내신 대비 필수 문제

■ 대단원 마무리 문제 75

■ 수능 유형 특강 (2028 수능 예시문항 2)
+ 수능 대비 기출 문제 79

IV 문화와 다양성

07 다양한 문화권의 특징과 삶의 방식 82

- 출제 0순위 특강 [세계의 종교 문화권]
- 개념 체크 문제
- 내신 대비 필수 문제

08 문화 변동과 전통문화 91

- 출제 0순위 특강 [문화 변동의 요인과 양상]
- 개념 체크 문제
- 내신 대비 필수 문제

09 문화 상대주의와 보편 윤리 99

- 출제 0순위 특강 [문화를 이해하는 태도와 보편 윤리]
- 개념 체크 문제
- 내신 대비 필수 문제

10 다문화 사회와 문화 다양성 존중 106

- 개념 체크 문제
- 내신 대비 필수 문제

■ 대단원 마무리 문제 112

■ 수능 유형 특강 (2028 수능 예시문항 3)
+ 수능 대비 기출 문제 117

자이스토리 **통합사회1** 강의

▲ QR 코드를 스캔하세요

QR코드를 통한 생생 강의

- 중요 개념 강의
- 중요 문항 해설 강의

V 생활 공간과 사회

- 11 산업화와 도시화에 따른 변화 122
 - 출제 0순위 특강 [우리나라의 도시화]
 - 개념 체크 문제
 - 내신 대비 필수 문제
- 12 교통·통신 및 과학기술의 발달 132
 - 출제 0순위 특강 [교통과 과학기술의 발달에 따른 변화]
 - 개념 체크 문제
 - 내신 대비 필수 문제
- 13 내가 사는 지역의 공간 변화 142
 - 개념 체크 문제
 - 내신 대비 필수 문제
- 대단원 마무리 문제 149
- 수능 유형 특강 (2028 수능 예시문항 5)
+ 수능 대비 기출 문제 153

☆ 내신+수능 대비 단원별 TEST

- 01 인간, 사회, 환경을 바라보는 관점 156
- 02 행복의 의미와 기준 158
- 03 행복한 삶을 실현하기 위한 조건 160
- 04 자연환경과 인간 생활 162
- 05 인간과 자연의 관계 164
- 06 환경 문제 해결을 위한 노력 166
- 07 다양한 문화권의 특징과 삶의 방식 168
- 08 문화 변동과 전통문화 170
- 09 문화 상대주의와 보편 윤리 172
- 10 다문화 사회와 문화 다양성 존중 174
- 11 산업화와 도시화에 따른 변화 176
- 12 교통·통신 및 과학기술의 발달 178
- 13 내가 사는 지역의 공간 변화 180

통합사회 2 미리보기

I 인권 보장과 헌법

- 01 인권의 의미와 발전 과정
- 02 인권 보장을 위한 헌법의 역할과 시민 참여
- 03 인권 문제 해결을 위한 노력

II 사회 정의와 불평등

- 04 정의의 의미와 기준 및 다양한 정의관
- 05 불평등 해결과 정의의 실현

III 시장 경제와 지속가능발전

- 06 자본주의의 전개 과정과 경제 체제
- 07 합리적 선택과 경제 주체의 역할
- 08 자산 관리와 금융 생활
- 09 국제 무역과 지속가능발전

IV 세계화와 평화

- 10 세계화의 양상과 문제
- 11 평화를 위한 국제 사회의 노력
- 12 남북 분단 및 동아시아 역사 갈등

V 미래와 지속가능한 삶

- 13 세계의 인구와 인구 문제
- 14 세계의 에너지 자원과 지속가능한 발전
- 15 미래 사회와 세계시민으로서의 삶

☆ 내신+수능 대비 단원별 TEST

개념 체크 문제 정답 183

2028 수능 예시문항 + 해설 185



내 교과서와 자이스토리 단원 비교

• 자이스토리 통합사회 1은 8종 교과서 개념을 모두 완벽히 총정리하여, 학습 순서에 알맞게 배치하였습니다.

대단원	단원명	자이스토리
I 통합적 관점	01 인간, 사회, 환경을 바라보는 관점	10~23
II 인간, 사회, 환경과 행복	02 행복의 의미와 기준	26~33
	03 행복한 삶을 실현하기 위한 조건	34~46
III 자연환경과 인간	04 자연환경과 인간 생활	48~57
	05 인간과 자연의 관계	58~67
	06 환경 문제 해결을 위한 노력	68~80
IV 문화와 다양성	07 다양한 문화권의 특징과 삶의 방식	82~90
	08 문화 변동과 전통문화	91~98
	09 문화 상대주의와 보편 윤리	99~105
	10 다문화 사회와 문화 다양성 존중	106~119
V 생활 공간과 사회	11 산업화와 도시화에 따른 변화	122~131
	12 교통·통신 및 과학기술의 발달	132~141
	13 내가 사는 지역의 공간 변화	142~154

- 학교 교과서 단원에 맞춰서 공부하면 더욱 빠르게 실력이 향상됩니다.

김영사	동아	리베르	미래엔	비상	지학사	창비	천재
08~17	10~27	11~24	10~21	08~25	12~29	08~23	08~21
20~27	30~37	27~32	24~29	28~35	32~39	26~33	24~31
28~37	38~49	33~42	30~39	36~47	40~53	34~45	32~43
40~51	52~63	45~55	42~53	50~61	56~65	48~55	46~55
52~59	64~69	56~62	54~59	62~69	66~73	56~61	56~63
60~71	70~83	63~74	60~69	70~79	74~87	62~73	64~75
74~81	86~93	77~83	72~79	82~91	90~97	76~83	78~87
82~89	94~101	84~89	80~87	92~99	98~105	84~91	88~97
90~97	102~109	90~96	88~93	100~105	106~113	92~99	98~105
98~107	110~121	97~108	94~103	106~115	114~127	100~111	106~115
110~117	124~131	111~119	106~115	118~127	130~137	114~121	118~125
118~127	132~139	120~129	116~123	128~137	138~145	122~129	126~133
128~139	140~151	130~141	124~133	138~145	146~157	130~143	134~145



내신 + 수능 1등급을 위한 학습 계획표 23일


★ 하루하루 계획표대로 공부하면 어느덧 눈앞에 1등급이 놓여 있을 것입니다. [하루 90분, 23일 완성]

DAY	학습 내용	틀린 문제 / 헛갈리는 문제 번호 적기	학습 날짜		복습 날짜	
1	01 인간, 사회, 환경을 바라보는 관점		월	일	월	일
2	<ul style="list-style-type: none"> ■ 대단원 마무리 문제 ■ 수능 대비 기출 문제 		월	일	월	일
3	02 행복의 의미와 기준		월	일	월	일
4	03 행복한 삶을 실현하기 위한 조건		월	일	월	일
5	<ul style="list-style-type: none"> ■ 대단원 마무리 문제 ■ 수능 대비 기출 문제 		월	일	월	일
6	04 자연환경과 인간 생활		월	일	월	일
7	05 인간과 자연의 관계		월	일	월	일
8	06 환경 문제 해결을 위한 노력		월	일	월	일
9	<ul style="list-style-type: none"> ■ 대단원 마무리 문제 ■ 수능 대비 기출 문제 		월	일	월	일
10	07 다양한 문화권의 특징과 삶의 방식		월	일	월	일
11	08 문화 변동과 전통문화		월	일	월	일
12	09 문화 상대주의와 보편 윤리		월	일	월	일
13	10 다문화 사회와 문화 다양성 존중		월	일	월	일
14	<ul style="list-style-type: none"> ■ 대단원 마무리 문제 ■ 수능 대비 기출 문제 		월	일	월	일
15	11 산업화와 도시화에 따른 변화		월	일	월	일
16	12 교통·통신 및 과학기술의 발달		월	일	월	일
17	13 내가 사는 지역의 공간 변화		월	일	월	일
18	<ul style="list-style-type: none"> ■ 대단원 마무리 문제 ■ 수능 대비 기출 문제 		월	일	월	일
19	단원별 TEST 01~03강		월	일	월	일
20	단원별 TEST 04~06강		월	일	월	일
21	단원별 TEST 07~10강		월	일	월	일
22	단원별 TEST 11~13강		월	일	월	일
23	2028 수능 예시문항		월	일	월	일

I 통합적 관점

01 인간, 사회, 환경을 바라보는 관점

와! 내가 좋아하는 토끼가 그려져 있어.



토끼?
내 눈에는 오리로 보이는데. 같은 그림이라도 보는 관점에 따라 다르게 보일 수 있구나.





01

인간, 사회, 환경을 바라보는 관점

중요도 ★★☆☆

1 인간, 사회, 환경을 바라보는 다양한 관점



1. 시간적 관점

- (1) 의미: 어떤 현상이 나타나기까지의 역사적 배경¹과 시대적 맥락²에 초점을 두고 사회 현상을 살펴보는 것
- (2) 필요성: 시대의 변화 속에서 나타나는 사회 현상을 살펴봄으로써 현재의 사회 현상을 이해하는데 도움을 줌
- (3) 특징: 특정 현상과 관련된 자료를 수집하여 과거와 현재의 관계를 탐구함

★ 시간적 관점에서 바라본 한국과 일본 경기

한국과 일본은 과거부터 영토 문제를 비롯하여, 전쟁, 식민지 시기, 역사 해석의 차이로 인해 갈등을 겪었다. 이로 인한 두 나라 사이의 반감이 오늘날까지 남아 스포츠 한일전은 독립 운동이나 전쟁 같은 역사 사건과 연관된 경기로 인식된다.



2. 공간적 관점

- (1) 의미: 인간 생활과 사회 현상을 위치, 장소, 분포 유형, 이동, 영역, 네트워크 등의 공간적 맥락에서 살펴보는 것
- (2) 필요성: 지역 간의 차이를 이해하고 인간 생활과 사회 현상에 대한 인문 환경³과 자연환경의 영향을 파악하는 데 도움을 줌
- (3) 특징: 자연환경 및 인문 환경, 지역의 위치나 형태에 관한 공간 정보⁴를 수집하여 인간과 사회, 인간과 자연이 상호 작용하는 방식을 탐구함

★ 공간적 관점에서 본 학생 수 불균형 현상

오래된 도시 중심부 지역은 인구가 외곽 지역으로 빠져나가며 입학할 학생이 없어 학교가 소멸할 위기에 놓였다. 반면 인구가 몰리고 있는 신도시의 학교에는 과밀 학급 문제가 발생하고 있다. 과밀 학급이란 학급당 학생 수가 28명 이상인 학급으로, 주로 2000년대 후반 경기도에 조성한 신도시가 분포하는 곳에서 이런 현상이 나타났다. 우리나라의 학령 인구는 전국적으로 감소하고 있으나, 학생 수 불균형 현상은 지역마다 다르게 나타나고 있다.



3. 사회적 관점

- (1) 의미: 사회 현상이 나타나게 된 배경을 사회 구조⁵ 및 사회 제도⁶의 영향력을 고려하여 살펴보는 것
- (2) 필요성: 사회 구조나 제도가 개인에게 영향력을 끼칠 수 있음을 전제하고, 정책적 측면에서 사회 문제의 해결책을 제시하는 데 도움을 줌
- (3) 특징: 정치적 · 경제적 · 문화적 제도 안에서 사람들이 상호 작용하는 방식을 탐구함

★ 사회적 관점에서 바라본 고령화 현상

고령화가 진행됨에 따라 노인 부양을 위한 기초 연금 등의 사회 복지 비용으로 국가 부담이 늘어나고 있다. 이는 경제 성장률에도 영향을 미칠 수 있으므로, 정부와 기업은 이러한 변화에 대응하여 적절한 정책과 전략을 개발해야 한다.



+용어

1 역사적 배경

특정 사건이나 현상이 구체적으로 발생한 상황

2 시대적 맥락

그 시대의 전반적인 특성과 흐름

+용어

3 인문 환경

인간 활동의 결과로 만들어진 언어, 종교, 민족 등의 환경

+개념

4 공간 정보

장소	사람들이 의미 있게 만들어진 공간
영역	어떤 집단이 점유하는 공간. 집, 지역, 국가 등 규모가 다양함
네트워크	사람, 물자, 정보 등이 영역의 경계를 넘어 이동하며 형성된 것

+용어

5 사회 구조

한 사회에서 개인이 일정한 행동을 하도록 정형화된 사회적 관계의 틀

6 사회 제도

사회 구성원의 원활한 상호 작용을 가능하게 해주는 관습화된 절차 및 규범. 종교 제도, 교육 제도, 결혼 제도 등

4. 윤리적 관점

- (1) 의미: 특정 사회 현상을 좋고 나쁨, 선과 악, 옳고 그름과 같은 도덕적 가치 판단과 윤리적 규범¹의 방향성에 기준을 두어 살펴보는 것
- (2) 필요성: 사회 현상은 인간의 의지에 따라서 나타나기 때문에 가치 판단이 가능하며, 규범적인 판단을 통해 보다 바람직한 사회가 될 수 있도록 도움을 줌
- (3) 특징: 사회 현상을 도덕적 기준이나 가치의 관점에서 설명하고 평가함

+ 용어

1 규범

예절, 규칙 등 마땅히 따르고 지켜야 할 본보기가 되는 것

✦ 윤리적 관점에서 바라본 아동 노동 문제

아프리카와 아시아의 광산, 섬유공장, 농경지에서 이루어지는 아동 노동은 불안정하고 비위생적인 환경에서 이뤄지기 때문에 아이들의 안전과 건강을 위협한다. 이로 인해 아이들은 교육 및 발전의 기회를 놓치게 되어 인간다운 삶을 누리지 못한다. 이러한 문제를 해결하기 위해서는 국제적인 협력과 강화된 법률로 아동 노동 방지를 위한 노력이 필요하다.



2 인간, 사회, 환경을 바라보는 통합적 관점




출 제 O순위 특강 p.12

- 1. 통합적 관점: 구체적인 사회 현상을 시간적 관점, 공간적 관점, 사회적 관점, 윤리적 관점을 종합적으로 고려하여 인간과 세상을 균형잡힌 시각으로 이해하는 관점
- 2. 개별 관점을 통한 탐구의 한계²: 개별 관점만을 통해 탐구하면 다양한 요인들이 복잡하게 얽혀 나타나는 사회 현상의 다양한 측면을 종합적으로 파악하기 어려움
- 3. 통합적 관점의 필요성
 - (1) 다양한 관점을 통합적으로 고려하면 복잡한 사회 현상의 원인을 제대로 파악할 수 있음
 - (2) 사회 문제의 속성을 깊이 있게 이해함으로써 근본적이고 다각적인 해결 방안 모색이 가능함 사물의 특징이나 성질
- 4. 통합적 관점의 적용

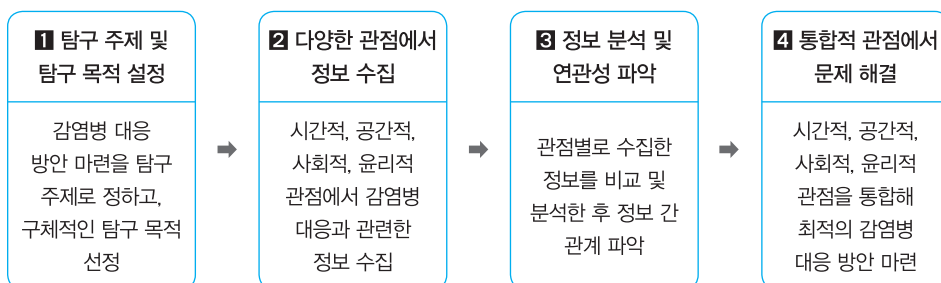
+ 개념

2 개별 관점을 통한 탐구의 한계



어떤 사물이나 현상의 한 부분만 살펴보고 전체를 이해하려고 하면 사회 현상에 담긴 복잡하고 다면적인 의미를 제대로 파악하기 어렵다.

<감염병 대응 방안 마련을 위한 토론회>





다양한 관점에서 살펴본 햄버거 문화

일상에서 자주 접하는 햄버거와 관련된 현상을 네 가지 관점에서 살펴보면, 현대 사회의 햄버거 문화를 폭넓게 이해해 보자.

1 시간적 관점

우리나라에 햄버거가 전해진 시기

6·25 전쟁 때 파병된 미군들이 미국식 햄버거를 들여오면서 시작되었다. 전쟁 이후 한국과 미국은 활발한 교류를 이어나갔고, 햄버거 문화 역시 우리나라에 확산되었다. 오늘날에는 우리나라의 경제 발전에 맞춰 소비자들의 기호와 요구에 따라 종류가 다양해지고 있다.



2 공간적 관점

지역마다 햄버거 재료가 다른 이유

지역의 자연환경과 문화적 특색에 따라 바게트버거, 라면버거, 라이스버거 등의 다양한 형태를 띤다. 또한, 이슬람교를 믿는 지역에서는 돼지고기를 금기시하여 소고기나 닭고기로 만든 패티를 선호하는 등 종교적 특성에 따라서 사용되는 재료에 차이가 나기도 한다.

- 평범하게만 보였던 햄버거와 관련된 현상도 인간, 사회, 환경에 대한 다양한 관점에서 바라보면 햄버거 문화를 더욱 깊이 있게 이해할 수 있게 된다.
- 이처럼 우리는 통합적 관점을 활용하여 사회 현상의 발생과 변화에 영향을 미치는 여러 측면을 확인하고, 다각적인 대응 방안을 도출할 수 있어야 한다.

3 사회적 관점

햄버거 소비 증가의 사회적 배경

혼밥 문화가 확산되면서 혼자 간편하게 식사할 수 있는 햄버거를 즐기는 사람들이 증가하고 있다. 햄버거 전문점의 증가로 기존 지역 상인들의 상권 보호와 햄버거의 품질 관리를 위해 지역 경제와 식품 안전을 고려한 제도적 장치를 마련하려는 노력이 요구되고 있다.

4 윤리적 관점

햄버거 소비와 플라스틱 문제

햄버거 전문점에서 사용하는 일회용품 중 특히 플라스틱에서 나오는 미세 플라스틱은 해양 생태계와 동물의 건강을 위협한다. 환경 보호에 대한 인식이 높아지면서 햄버거 전문점들은 일회용품 대신 친환경 제품 용기 사용을 늘리면서 환경 보호를 실천하고 있다.

출제 순위 포인트는?



확인 문제

▶ 정답과 해설은 다음 페이지에

다음은 저출산 현상을 바라보는 다양한 관점이다. 읽고 물음에 답하시오.

우리나라 출산율 변화를 시간의 흐름에 따라서 살펴본다.	(가)
우리나라와 덴마크의 출산율 변화를 비교해 본다.	(나)
혼인과 출산을 지원하는 제도는 무엇이 있는지 알아본다.	(다)
대리모를 통한 출산은 윤리적으로 문제가 없는지 살펴본다.	(라)

1 (가)~(라)에 해당하는 관점을 쓰시오.

2 통합적 관점이 필요한 이유를 쓰시오.

1 인간, 사회, 환경을 바라보는 다양한 관점

1. 인간, 사회, 환경을 바라보는 관점에 대한 설명으로 옳은 것은 ○, 틀린 것은 ×에 표시하십시오.

- (1) 시간적 관점은 사회 현상을 도덕적 가치에 따라 평가하는 관점이다. (○, ×)
- (2) 공간적 관점은 위치와 장소 등의 공간적 맥락을 중시하는 관점이다. (○, ×)
- (3) 사회적 관점은 사회 구조와 사회 제도의 영향력을 강조하는 관점이다. (○, ×)
- (4) 윤리적 관점은 사회 현상을 시간의 흐름 속에서 파악하는 관점이다. (○, ×)
- (5) 시간적, 공간적, 사회적, 윤리적 관점 중 하나의 관점만으로 사회 현상을 탐구하는 자세가 필요하다. (○, ×)

2. 탐구 관점과 탐구 과제가 옳게 연결된 것은 ○, 틀린 것은 ×에 표시하십시오.

- (1) 시간적 관점 - 지방 소도시의 연도별 인구 증감률 분석 (○, ×)
- (2) 시간적 관점 - 화장장 건립의 입지 조건 조사 (○, ×)
- (3) 공간적 관점 - 해안의 무분별한 개발을 막기 위한 바람직한 태도 탐구 (○, ×)
- (4) 공간적 관점 - 폐마스크로 동물 피해가 집중된 지역 조사 (○, ×)
- (5) 사회적 관점 - 수도권 집중화를 완화할 수 있는 정책 조사 (○, ×)
- (6) 사회적 관점 - 폐마스크의 무단 투기를 막을 제도 조사 (○, ×)
- (7) 윤리적 관점 - 전국 시·군·구의 대기업 본사 입지 현황 조사 (○, ×)
- (8) 윤리적 관점 - 갈등 해결을 위한 바람직한 시민 태도 조사 (○, ×)

p.12 확인 문제 [정답]

- 1 (가) 시간적 관점, (나) 공간적 관점, (다) 사회적 관점, (라) 윤리적 관점
- 2 복잡한 현상을 정확히 이해할 수 있으며, 문제에 대한 근본적이고 다각적인 해결책을 찾아낼 수 있기 때문이다.

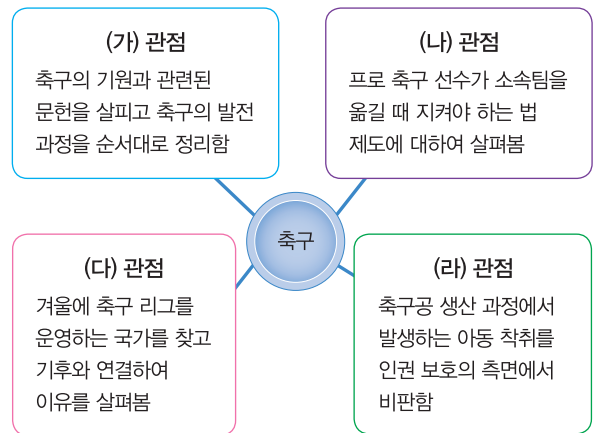
3. 다음 관점에 해당하는 설명을 옳게 연결하십시오.

- (1) 시간적 관점 • • ㄱ. 장소, 분포 유형, 네트워크
- (2) 공간적 관점 • • ㄴ. 시대적 배경과 역사적 맥락
- (3) 사회적 관점 • • ㄷ. 사회 구조 및 제도의 영향력
- (4) 윤리적 관점 • • ㄹ. 규범적 방향성과 도덕적 가치

2 인간, 사회, 환경을 바라보는 통합적 관점

4. 다음은 축구를 바라보는 여러 가지 관점이다. 이에 대한 설명으로 옳은 것은 ○, 틀린 것은 ×에 표시하십시오.

2022 실시 11월 학평 1 변형



- (1) (가) 관점은 사회 현상을 시간의 흐름 속에서 파악한다. (○, ×)
- (2) (나) 관점은 사회가 지향해야 할 가치와 규범을 살펴본다. (○, ×)
- (3) (다) 관점은 어떤 현상이 있기까지의 시대적 배경과 맥락을 살펴본다. (○, ×)
- (4) (라) 관점은 사회 현상을 위치와 장소, 분포 등 공간적 맥락에서 살펴본다. (○, ×)
- (5) 사회 현상을 살펴볼 때 (가)~(라) 관점을 각각 적용하는 것이 통합적 관점이다. (○, ×)



내신 대비 필수 문제

★ 학교시험 100점을 위한 실전 문제와 학평 문제

1 행복의 의미와 기준

01 ***

빈칸 ㉠의 일반적인 특징에 대한 설명으로 옳은 것만을 <보기>에서 고른 것은?

우리가 모두 이성적 활동 능력을 갖추고 있다고 해서 모두 똑같이 그 능력을 잘 발휘하는 것은 아니다. 똑같은 피리 연주자라도 피리 연주를 잘하는 사람이 있고 못하는 사람이 있는 것처럼, 이성적 활동도 사람에 따라 정도의 차이가 있게 마련이다. 그러므로 참된 ㉠은/는 이성을 아주 잘 실현할 때 이루어진다.

[보기]

- ㄱ. 사람마다 그 기준이 동일하다.
- ㄴ. 대부분 사람들의 삶의 궁극적 목적이다.
- ㄷ. 시대와 지역에 따라 그 기준이 다르게 나타난다.
- ㄹ. 의식주에 대한 기본적 욕구 충족이 배제된 상태이다.

- ① ㄱ, ㄴ ② ㄱ, ㄷ ③ ㄴ, ㄷ
- ④ ㄴ, ㄹ ⑤ ㄷ, ㄹ

02 ***

2021 실시 9월 학평 6

다음 글에서 강조하고 있는 행복의 의미로 가장 적절한 것은?

국내 태양광 스타트업이 개발한 휴대용 배터리가 전기 보급이 충분하지 않은 아프리카 지역에 도움을 주고 있어 화제다. 배터리 보급 이전에는 아이들이 학교에 가지 못하고 전기를 얻기 위해 일을 해야 했지만, 배터리가 보급되면서 아이들은 학교에 갈 수 있게 되었다. 이 스타트업 대표는 “배터리가 소외된 아프리카 지역 아이들에게 교육의 기회를 줄 수 있어 행복하다. 어린 시절에 나의 발명품으로 세상에 기여하는 일을 상상하였는데, 상상하던 일을 실현할 수 있게 되어서 기쁘다.”라며 웃었다.

- ① 행복과 꿈의 실현 여부는 무관하다.
- ② 행복한 삶과 상상력의 크기는 반비례한다.
- ③ 물질적 조건만 충족되면 행복한 삶은 실현된다.
- ④ 행복한 삶을 위한 조건으로 발명은 반드시 필요하다.
- ⑤ 어려운 처지에 있는 타인을 도움으로써 행복해질 수 있다.

03 *** 중요

2021 실시 6월 학평 3



그림은 어느 사상가와 나는 가상 대화이다. (가)에 들어갈 내용으로 가장 적절한 것은? [3점]

<p>스승님, 행복이란 무엇인가요?</p> <p>1</p>	<p>행복은 쾌락이며, 몸의 고통이 없고 마음의 혼란에서 벗어난 평온한 상태입니다.</p> <p>2</p>
<p>그렇다면 행복을 실현하기 위해서는 어떻게 해야 하나요?</p> <p>3</p>	<p>자연적이고 필수적인 욕구를 최소한으로 충족하면서 (가)</p> <p>4</p>

- ① 모든 욕구를 부정하는 삶을 살아야 합니다.
- ② 부와 명예만을 획득하도록 노력해야 합니다.
- ③ 과도한 욕심을 버리는 절제된 태도를 지녀야 합니다.
- ④ 정신적인 쾌락이 아닌 육체적인 쾌락만을 추구해야 합니다.
- ⑤ 몸의 고통이 계속되어도 경쟁에 집착하는 태도를 지녀야 합니다.

[04~05] 다음 대화를 읽고 물음에 답하시오.

<p>내가 사는 지역은 사막이어서 마실 물조차 부족해. 그래서 오염된 물을 식수로 마시곤 하는데, 이 때문에 많은 주민이 각종 질병이나 전염병에 시달리고 있어.</p>	<p>내가 사는 곳은 일조량이 부족해서 햇볕을 쬐 수 있는 것이 ㉠의 기준이 될 수 있지.</p>
---	--

04 *** 단답형

빈칸 ㉠에 들어가는 알맞은 말을 쓰시오.

05 *** 서술형

두 사람이 사는 지역의 차이와 관련지어 두 사람의 ㉠의 기준이 다른 이유를 서술하시오.



대단원 마무리 문제

Ⅱ. 인간, 사회, 환경과 행복

02 행복의 의미와 기준

01 ***

㉠에 대한 일반적인 설명으로 옳은 것만을 <보기>에서 있는 대로 고른 것은?

㉠은/는 탁월성(덕)에 따르는 영혼의 활동이다. ...<중략> 탁월성(덕)에 따르는 행위들은 그 자체로 즐거울 것이다. 하지만 ㉠은/는 추가로 외적인 좋음 또한 필요로 한다. 일정한 뒷받침이 없으면 고귀한 일을 행한다는 것은 불가능하거나 쉽지 않기 때문이다.

[보기]

- ㄱ. 주거, 소득, 고용, 수명 등이 주관적 기준이 된다.
- ㄴ. 기후와 지형 등의 자연환경의 영향을 받지 않는다.
- ㄷ. 생활 속에서 충분한 만족과 기쁨을 느끼는 상태이다.
- ㄹ. 시대 상황이나 지역 여건에 따라 다르게 인식될 수 있다.

- ① ㄱ, ㄴ ② ㄱ, ㄹ ③ ㄷ, ㄹ
- ④ ㄱ, ㄴ, ㄷ ⑤ ㄴ, ㄷ, ㄹ

02 ***

2021 실시 6월 학평 5

(가)에 들어갈 내용으로 가장 적절한 것은?

중세에는 종교적 절대자나 군주의 뜻을 따르는 데 개인의 행복이 있다고 여겼다. 근대에 들어 산업화가 시작되면서는 물질적 기반을 확보하고 개인의 권리를 보장 받는 것이 행복의 중요한 기준이라고 보았다. 오늘날에는 물질적 풍요 외에도 자신이 부여한 삶의 가치와 심리적 만족감 등이 중시되고 있다. 결론적으로 행복의 기준은 (가)

- ① 시대적 상황에 따라 다르게 나타난다.
- ② 지역을 초월하여 보편타당하게 정해진다.
- ③ 타인과의 비교를 통해 절대적으로 결정된다.
- ④ 의식주 등 기본적 욕구와 상관없이 정해진다.
- ⑤ 소수 지배자의 통치 목적을 실현하기 위해 정해진다.

03 ***

그림을 통해 추론할 수 있는 내용만을 <보기>에서 고른 것은?



[보기]

- ㄱ. 자신이 처한 상황을 어떻게 인식하느냐가 행복감의 차이를 가져온다.
- ㄴ. 행복감은 스스로 만족하고 평정심을 잃지 않을 때 느낄 수 있다.
- ㄷ. 객관적인 상황에 따라 모든 사람에게 행복감은 동일하게 나타난다.
- ㄹ. 행복한 삶은 정신적 만족감보다 목표 달성의 정도에 의해 좌우된다.

- ① ㄱ, ㄴ ② ㄱ, ㄷ ③ ㄴ, ㄷ ④ ㄴ, ㄹ ⑤ ㄷ, ㄹ

04 ***

다음 글을 통해 추론할 수 있는 행복의 기준에 대한 설명으로 적절하지 않은 것은?

미국과 일본 대학생들에게 작은 휴대용 컴퓨터를 나누어 주고, 신호가 울릴 때 마다 자신의 감정 상태를 보고하도록 했다. 그 결과 일본 학생들은 미국 학생들보다 친구와 함께 있을 때 더 행복하다는 보고가 많았으나, 미국 학생들은 과제를 성공적으로 완수했을 때 더 행복했다.

- ① 생활 방식의 차이가 행복의 기준에 영향을 미친다.
- ② 행복의 기준은 인문 환경에 따라서 달라질 수 있다.
- ③ 미국 대학생들은 자신의 목표를 성취하는 삶을 통해 행복감을 느낀다.
- ④ 동서양을 막론하고 물질적 가치가 행복의 가장 큰 요소로 인정된다.
- ⑤ 일본 대학생들은 원만한 인간관계와 공동체적 유대감에서 행복감을 느낀다.



수능 대비 기출 문제

V. 생활 공간과 사회



★ 산업화와 도시화

다음 유형은 산업화와 도시화에 대한 자료를 읽고 그래프의 A~C가 어떤 나라인지 파악한 후 옳은 설명을 찾는 문제로 주로 출제된다.

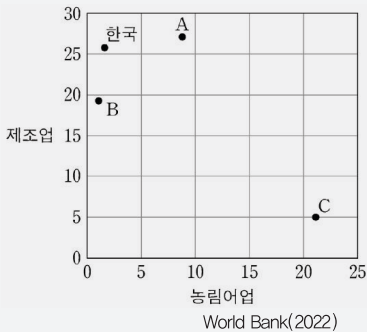
다음은 도시화와 산업화에 대한 자료이다. 이에 대한 설명으로 옳은 것은? (단, 그래프의 A~C는 각각 네팔, 일본, 타이 중 하나임.)

2028 수능 대비 예시 5

일반적으로 도시화 과정은 초기-가속화-종착의 3단계로 진행되고, 단계마다 도시화율과 도시 인구 증가율이 다르게 나타난다. 반면 도시화의 속도와 구체적 시기는 국가별로 다르다. 따라서 각 국가의 도시화 단계는 도시화율과 도시 인구 증가율을 통해 알 수 있다. 예를 들어 2022년 기준으로 도시화율은 일본, 한국, 타이, 네팔 순으로 높고, 도시 인구 증가율은 반대로 네팔, 타이, 한국, 일본 순으로 높다. 네팔은 도시화율이 21.5%로 가장 낮지만, 연평균 도시 인구 증가율은 3.8%로 가장 높아 가속화 단계에 진입하였음을 알 수 있다.

또한 도시화는 산업화 수준과도 밀접하게 관련되어 있다. 산업화가 고도화될수록 더 많은 사람들이 도시에 살게 되기 때문이다. 다음 그래프는 앞에서 언급한 네 나라의 2022년 경제 부문별 국내 총생산(GDP) 비율을 나타낸 것이다. 이 그래프를 통해 각 국가의 산업 부문별 비중을 알 수 있다.

〈4개국의 경제 부문별 국내 총생산 비율〉
(단위: %)



- ① A의 제조업 총부가가치액은 한국보다 많다.
- ② B는 한국보다 도시 인구가 많다.
- ③ C는 도시 인구가 촌락 인구수보다 많다.
- ④ A는 B보다 산업화가 시작된 시기가 이르다.
- ⑤ 타이는 일본보다 국내 총생산에서 서비스업이 차지하는 비율이 높다.



- ① 단서 농림어업의 비율이 C가 가장 높고, B가 가장 낮다.
- ② 발상 따라서 A는 타이, B는 일본, C는 네팔이다.
- ③ 적용 도시화율이 낮으면 도시 인구수보다 촌락 인구수가 많다.

| 문제 + 자료 분석 |

- A는 제조업 비율이 높지만 한국과 B보다 농림어업의 비율이 높은 타이이다.
- B는 제조업의 비율이 높은 편이고, 한국보다 농림어업의 비율이 낮은 일본이다.
- C는 네 국가 중 제조업의 비율이 가장 낮고 농림어업의 비율이 가장 높은 네팔이다.

| 선택지 분석 |

- ✗ A의 제조업 총부가가치액은 한국보다 많다.
 - 타이는 한국보다 국내 총생산에서 제조업의 부가가치액이 차지하는 비율이 약간 1, 국내 총생산은 한국보다 훨씬 적다.
 - 따라서 타이는 한국보다 제조업 총부가가치액이 적다.
- ② B는 한국보다 도시 인구가 많다.
 - 일본과 한국 모두 도시화율이 높게 나타나지만, 일본은 한국보다 2가 더 많으므로 도시 인구수가 더 많다.
- ✗ C는 도시 인구가 촌락 인구수보다 많다.
 - 남부 아시아의 개발 도상국인 네팔은 도시화율이 50% 미만으로 도시 인구수가 촌락 인구수보다 3.
- ✗ A는 B보다 산업화가 시작된 시기가 이르다.
 - 동남아시아의 개발 도상국인 타이는 동아시아의 선진국인 일본보다 산업화가 시작된 시기가 늦으며 그로 인해 4도 낮다.
- ✗ 타이는 일본보다 국내 총생산에서 서비스업이 차지하는 비율이 높다.
 - 국내 총생산에서 서비스업이 차지하는 비율은 100%에서 제조업과 농림어업이 차지하는 비율을 빼면 구할 수 있다.
 - 타이는 일본보다 제조업과 농림어업이 차지하는 비율이 높으므로 서비스업이 차지하는 비율은 5.

∴ 정답은 ②이다.



이 유형에 대비하기 위해서는 산업화와 도시화가 일어나기 이전과 이후의 특성을 파악하고 있어야 한다.

[정답]

1 높지만 2 총인구 3 적다 4 도시화율 5 낮다

☆ 내신+수능 시험 대비

단원별 TEST



- 01 인간, 사회, 환경을 바라보는 관점
- 02 행복의 의미와 기준
- 03 행복한 삶을 실현하기 위한 조건
- 04 자연환경과 인간 생활
- 05 인간과 자연의 관계
- 06 환경 문제 해결을 위한 노력
- 07 다양한 문화권의 특징과 삶의 방식
- 08 문화 변동과 전통문화
- 09 문화 상대주의와 보편 윤리
- 10 다문화 사회와 문화 다양성 존중
- 11 산업화와 도시화에 따른 변화
- 12 교통·통신 및 과학기술의 발달
- 13 내가 사는 지역의 공간 변화



09 문화 상대주의와 보편 윤리

• 문항 수 10개
• 제한 시간 15분

01 ***

그림에 나타난 문화 이해 태도의 문제점만을 <보기>에서 고른 것은?

우리 유럽은 과학과 기술이 눈부시게 발전했는데, 아시아와 아프리카는 아직 미개하군.



[보기]

- ㄱ. 문화 정체성 상실의 우려가 있다.
- ㄴ. 문화 제국주의로 변질될 가능성이 높다.
- ㄷ. 자기 문화가 가지는 가치를 과소평가한다.
- ㄹ. 국수주의로 발전하여 국제적 고립을 초래할 수 있다.

- ① ㄱ, ㄴ ② ㄱ, ㄷ ③ ㄴ, ㄷ ④ ㄴ, ㄹ ⑤ ㄷ, ㄹ

02 ***

다음은 갑과 을이 외국 여행 중 나눈 대화 내용이다. 이에 대한 설명으로 옳은 것은?

갑: 여성들이 장례식에서 손가락을 자르며 슬픔을 표현하다니……. 정말 흥미로운 문화야.
을: 흥미롭다고? 저 여성들이 겪을 고통을 생각해 봐. 난, 여성을 억압하는 문화라고 생각해. 인정할 수 없어.

- ① 갑은 문화 사대주의적 태도로 문화를 인식하고 있다.
- ② 갑은 인류 문화의 보편적 가치를 중시하고 있다.
- ③ 을은 장례 풍습이 발생하게 된 원인에 관심이 있다.
- ④ 을은 갑의 문화 이해 태도를 극단적 상대주의로 본다.
- ⑤ 갑과 을은 모두 그 사회의 맥락에서 문화를 보고 있다.

03 *** (단답형)

다음 글의 ㉠에 들어갈 문화 이해 태도를 쓰시오.

요즘 영어가 한글보다 더 고급스럽다는 편견을 가지고 제품의 이름을 영문으로만 쓰는 가게가 늘어나고 있다. 이러한 ㉠(가)은/는 잘못된 문화 인식 태도이다. 자기 문화의 정체성을 상실할 수 있기 때문이다.

04 ***

다음 대화에서 을이 갖고 있는 문화 이해 태도에 대한 설명으로 옳지 않은 것은?

갑: 우리와 일본, 중국은 모두 젓가락을 사용하지만 젓가락의 모습이나 사용 방법은 조금씩 다른 것 같아.
을: 맞아, 중국 젓가락은 나무이면서 길고, 일본은 가늘고 짧지. 우리는 그 중간쯤의 길이이고, 또 중국인이나 일본인은 밥그릇을 들고 젓가락만을 이용해서 밥을 먹잖아. 우리는 숟가락을 사용하고, 중국과 일본은 점잖지 않고 지저분하게 밥을 먹는 문화를 갖고 있는 것 같아.

- ① 자민족의 통합에 유리하다.
- ② 타 문화 사회와 갈등이 발생할 수 있다.
- ③ 자문화의 정체성을 지키는 데 유리하다.
- ④ 자문화를 발전시키는 데에 도움이 된다.
- ⑤ 타 문화를 지배하려는 문화 제국주의로 확대될 수 있다.

05 ***



(가)~(다)에 대한 설명으로 옳은 것은? (단, (가)~(다)는 각각 문화 상대주의, 자문화 중심주의, 문화 사대주의 중 하나에 해당한다.)

구분	(가)	(나)	(다)
자기 집단에 대한 자부심을 고양하기 위해 인위적으로 형성되기도 합니까?	예	아니요	아니요
각 사회의 문화를 평가할 수 있다고 전제합니까?	예	아니요	예

- ① (가) - 자기 문화의 정체성을 상실할 우려가 크다.
- ② (가) - 문화는 그 사회가 속한 환경의 산물임을 간과한다.
- ③ (나) - 근대 사회의 서구 제국주의 국가의 관점에 해당한다.
- ④ (나) - 인류 보편의 가치 기준이 존재한다는 사실을 강조한다.
- ⑤ (다) - 다문화 사회에서 문화 공존을 이루기 위한 필수적 자세에 해당한다.

★2028학년도

대학수학능력시험 예시문항

출제 범위

[통합사회1] ~ [통합사회2] V. 미래와 지속가능한 삶
1. 세계의 인구와 인구 문제까지

2028학년도 대학수학능력시험 대비 학습 전략

- 2028학년도 수능 예시문항에서는 사회과와 도덕과의 핵심 개념들을 구심점으로 하여 각 영역들의 유기적 결합을 보여주는 통합형 문제를 제시하였다.
- 인간, 사회, 환경에 대한 다양한 관점을 통합적으로 적용하는 것이 기본 원리로서 강조되고 있으며, 지리, 일반사회, 역사, 윤리 영역을 관통하고 통합할 수 있는 역량을 기르는 것이 필요하다.

문제 구성

번호	과목	단원
01	통합사회1	II. 인간, 사회, 환경과 행복 1. 행복의 의미와 기준
02	통합사회1	III. 자연환경과 인간 2. 인간과 자연의 관계
03	통합사회1	III. 자연환경과 인간 1. 자연환경과 인간 생활
04	통합사회1	IV. 문화와 다양성 1. 세계의 다양한 문화권
05	통합사회1	V. 생활 공간과 사회 1. 산업화와 도시화
06	통합사회2	I. 인권 보장과 헌법 1. 인권의 의미와 발전 과정
07	통합사회2	I. 인권 보장과 헌법 2. 인권 보장을 위한 헌법의 역할
08	통합사회2	I. 인권 보장과 헌법 3. 인권 문제 해결을 위한 노력
09	통합사회2	II. 사회 정의와 불평등 2. 다양한 정의관의 비교 및 적용
10	통합사회2	II. 사회 정의와 불평등 3. 불평등 해결과 정의의 실현
11	통합사회2	III. 시장 경제와 금융 1. 자본주의의 전개 과정과 경제 체제
12	통합사회2	III. 시장 경제와 금융 3. 자산 관리와 금융 생활
13	통합사회2	IV. 세계화와 평화 2. 평화를 위한 국제 사회의 노력
14	통합사회2	V. 미래와 지속가능한 삶 1. 세계의 인구와 인구 문제

2028 대학수학능력
시험에서는 통합적
역량이 중요해!



• 윤리 (5문항)

• 지리 (4문항)

• 일반사회 (5문항)

01

행복에 대한 서양 사상이 갑, 을의 입장으로 옳은 것만을 <보기>에서 있는 대로 고른 것은?

최고선인 행복이 무엇인지 알려면 인간의 고유한 기능을 알아야 합니다. 인간의 고유한 기능은 이성을 동반하는 정신 활동입니다. 그런데 기능을 잘 수행할 수 있는 품성 상태가 덕이므로 행복이란 덕에 따르는 정신 활동입니다.

쾌락은 행복의 시작이자 끝입니다. 우리가 추구할 만한 쾌락은 몸에 고통이 없고 마음에 동요가 없는 상태입니다. 그런데 덕은 본성적으로 쾌락의 향유와 연결되므로 사려 깊고 훌륭하고 정의로써 살지 않고서는 쾌락을 누릴 수 없습니다.



갑



을

[보기]

- ㄱ. 갑: 행복은 인간의 모든 행위의 궁극적인 목적이다.
- ㄴ. 갑: 유덕함이 행복을 증진하지만 행복의 필수 조건은 아니다.
- ㄷ. 을: 모든 고통이 제거되면 쾌락은 더 이상 증가하지 않는다.
- ㄹ. 갑과 을: 이성의 능력을 발휘해야 행복에 이를 수 있다.

- ① ㄱ, ㄴ ② ㄱ, ㄹ ③ ㄴ, ㄷ ④ ㄱ, ㄷ, ㄹ ⑤ ㄴ, ㄷ, ㄹ

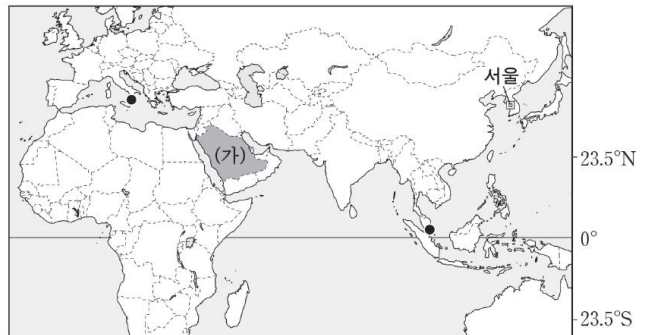
02

(가)의 갑, 을 사상가들의 입장에서 (나)의 ㉠ 지역 개발에 대해 제시할 견해로 가장 적절한 것은?

(가)	<p>갑: 인간의 지식이 곧 인간의 힘이다. 우리는 자연을 연구하여 이리 저리 방황하는 자연의 자취를 마치 사냥개처럼 추적할 수 있다.</p> <p>을: 인간은 대지의 구성원이다. 어떤 것이 생명 공동체의 통합성, 안정성, 아름다움의 보존에 이바지한다면 그것은 옳고, 그렇지 않다면 그르다.</p>
(나)	<p>북방 한계선(NLL) 2km 군사 분계선(MDL) 2km 남방 한계선(SLL) 2km</p> <p>* ㉠ 지역은 1953년 7월 27일 체결된 '한국 군사 정전에 관한 협정'에 따라 무장이 금지된 완충 지대로 군대 주둔과 무기 배치, 군사 시설 설치가 금지되고 있다. 통일 이후 이 지역의 개발에 대해 다양한 견해가 제시되고 있다.</p>

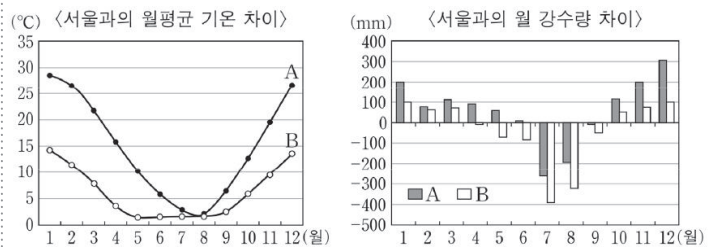
- ① 갑: 자연에 대한 지식을 이용할 권리가 인간에게 없음을 알아야 한다.
- ② 갑: 경제적 이익을 위한 개발에 앞서 자연을 도덕적으로 고려해야 한다.
- ③ 을: 한반도 생태계의 균형 유지를 지역 개발보다 중시해야 한다.
- ④ 을: 남북한 주민의 경제적 이익 증진을 궁극적 목적으로 삼아야 한다.
- ⑤ 갑과 을: 현세대와 미래 세대는 생태계의 선(善)을 위해 협력해야 한다.

[03~04] 다음 지도를 보고 물음에 답하시오.



03

그래프는 지도에 표시된 두 지역과 서울의 기후 값 차이를 나타낸 것이다. 이에 대한 설명으로 옳은 것은? (단, 그래프의 A, B는 각각 지도에 검은 점으로 표시된 두 지역 중 하나임.)



- ① A에서는 올리브 등을 재배하는 수목 농업이 주로 이루어진다.
- ② B는 서울보다 여름 강수 집중률이 높다.
- ③ B에서는 지면의 열과 습기 차단에 유리한 고상 가옥이 발달했다.
- ④ A는 B보다 여름에 더 건조하다.
- ⑤ A와 B는 모두 서울보다 연평균 기온이 높다.


01 정답 ④ * 아리스토텔레스와 에피쿠로스의 행복론 2028 수능 대비 예시 1

행복에 대한 서양 사상이 갑, 을의 입장으로 옳은 것만을 <보기>에서 있는 대로 고른 것은?


최고선인 행복이 무엇인지 알려면 인간의 고유한 기능을 알아야 합니다. 인간의 고유한 기능은 이성을 동반하는 정신 활동입니다. 그런데 기능을 잘 수행할 수 있는 품성 상태가 덕이므로 행복이란 덕에 따르는 정신 활동입니다.

단서

쾌락은 행복의 시작이자 끝입니다. 우리가 추구할 만한 쾌락은 몸에 고통이 없고 마음에 동요가 없는 상태입니다. 그런데 덕은 본성적으로 쾌락의 향유와 연결되므로 사려 깊고 훌륭하고 정의로롭게 살지 않고서는 쾌락을 누릴 수 없습니다. **단서**



아리스토텔레스
갑



에피쿠로스
을

- [보기]**
- ㉠ 갑 : 행복은 인간의 모든 행위의 궁극적인 목적이다. 최고선
 - ㉡ 갑 : 유덕함이 행복을 증진하지만 행복의 필수 조건은 아니다. 단서
 - ㉢ 을 : 모든 고통이 제거되면 쾌락은 더 이상 증가하지 않는다. 단서
 - ㉣ 갑과 을 : 이성의 능력을 발휘해야 행복에 이를 수 있다. 단서
- 갑(아리스토텔레스): 덕 함양, 을(에피쿠로스): 욕구 분별

- ① ㉠, ㉡ ② ㉠, ㉢ ③ ㉡, ㉣ ④ ㉠, ㉢, ㉣ ⑤ ㉡, ㉣, ㉤

| 문제+자료 분석 |

- 갑 아리스토텔레스: 잘 달리는 말이 훌륭하고 덕스러운 말인 것처럼 이성을 발휘하고 그에 따르는 사람은 훌륭하고 유덕할 뿐 아니라 행복을 누림
- 을 에피쿠로스: 불필요한 욕구를 충족하는 데 애쓰기보다는 욕구를 조절하고 고통을 줄이는 것이 행복을 증진하는 데 기여함

| 보기 분석 |

- ㉠ 갑(아리스토텔레스)은 행복을 자족적이면서도 완전한 것이자 최종적인 목적이라고 본다. 행복을 향유하는 사람은 다른 것을 필요로 하지 않을뿐더러 다른 무언가를 위해 행복을 수단으로 삼지 않기 때문이다.
- ㉡ 갑(아리스토텔레스)은 행복하기 위해서는 덕을 갖추어야 한다고 보므로, 유덕함은 행복의 필수 조건이다.
- ㉢ 을(에피쿠로스)은 더 많은 욕구를 충족하여 더 큰 쾌락을 적극적으로 획득하라고 요구하지 않는다. 그보다는 욕구를 충족하지 않아서 생기는 고통을 줄이는 데 초점을 두고, 불필요한 욕구를 절제하여 고통을 줄여야 한다는 소극적 쾌락주의를 주장한다.
- ㉣ 갑(아리스토텔레스)은 인간 고유의 기능인 이성을 발휘하여 덕을 갖추어야만 행복할 수 있다고 본다. 을(에피쿠로스)은 이성을 발휘하여 추구할 만한 욕구와 그렇지 않은 욕구를 구별함으로써 고통이 없는 쾌락의 상태, 즉 행복을 획득할 수 있다고 본다.

02 정답 ③ * 인간 중심주의와 생태 중심주의 2028 수능 대비 예시 2

(가)의 갑, 을 사상가들의 입장에서 (나)의 ㉠ 지역 개발에 대해 제시할 견해로 가장 적절한 것은?

단서

갑: 인간의 지식이 곧 인간의 힘이다. 우리는 자연을 연구하여 이리저리 방황하는 자연의 자취를 마치 사냥개처럼 추적할 수 있다.

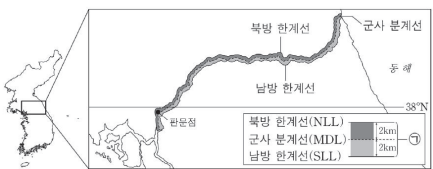
단서

을: 인간은 대지의 구성원이다. 어떤 것이 생명 공동체의 통합성, 안정성, 아름다움의 보존에 이바지한다면 그것은 옳고, 그렇지 않다면 그르다.

→ 베이컨(인간 중심주의)

→ 레오폴드(생태 중심주의)

(나)



한반도 비무장지대
* ㉠ 지역은 1953년 7월 27일 체결된 '한국 군사 정전에 관한 협정'에 따라 무장된 금지된 원충 지대로 군대 주둔과 무기 배치, 군사 시설 설치가 금지되고 있다. 통일 이후 이 지역의 개발에 대해 다양한 견해가 제시되고 있다.

- ① 갑: 자연에 대한 지식을 이용할 권리가 인간에게 있음을 알아야 한다. 단서
 - ② 갑: 경제적 이익을 위한 개발에 앞서 자연을 도덕적으로 고려해야 한다. 단서
 - ③ 을: 한반도 생태계의 균형 유지를 지역 개발보다 중시해야 한다. 단서
 - ④ 을: 남북한 주민의 경제적 이익 증진을 궁극적 목적으로 삼아야 한다. 단서
 - ⑤ 갑과 을: 현재세대와 미래 세대는 생태계의 선(善)을 위해 협력해야 한다. 단서
- 갑(베이컨): 생태계 선 고려 X, 을(레오폴드): 미래 세대의 협력 요구 X

| 문제+자료 분석 |

- 갑 베이컨: 자연을 인간의 이익 획득을 위한 도구로 간주하고, 그로부터 이익을 획득하기 위해서는 자연에 대한 지식이 요구됨
- 을 레오폴드: 인간은 생태계의 지배자가 아니라 구성원에 불과하므로 생태계를 경제적인 관점뿐 아니라 윤리적·심미적 관점에서 바라보아야 함
- ㉠(한반도 비무장지대): 오랜 기간 사람의 손길이 닿지 않아 자연이 야생 그대로 보존되어 있음

| 선택지 분석 |

- ① 갑(베이컨)은 자연의 특징과 원리를 파악하여 인간에게 유용한 방식으로 활용해야 한다고 본다.
- ② 갑(베이컨)은 자연을 인간의 이익을 위한 도구로 간주해야 한다고 본다.
- ③ 을(레오폴드)은 생태계의 도덕적 지위를 존중하므로, 한반도 비무장지대의 개발보다는 생태계 보존을 중시해야 한다고 본다.
- ④ 을(레오폴드)은 대지의 안정성과 통합성을 유지하는 것을 강조하므로, 남북한의 생태계를 보호하는 일을 궁극적 목적으로 삼는다.
- ⑤ 갑(베이컨)은 생태계의 선이 아니라 인간의 이익을 중시한다. 을(레오폴드)은 생태계의 선을 중시하기는 하지만, 아직 태어나지 않은 미래 세대가 생태계 보호를 위해 현재세대와 협력해야 한다고 주장하지는 않는다.

*** 인간 중심주의와 생태 중심주의 비교**

인간 중심주의	생태 중심주의
<ul style="list-style-type: none"> • 이분법적 관점: 인간과 자연을 분리된 존재로 바라봄 • 자연의 도구적 가치 강조: 자연을 인간의 풍요로운 삶을 위한 도구로 봄 	<ul style="list-style-type: none"> • 전일론적 관점: 자연을 다양한 구성원이 유기적으로 엮여 있는 생태계로 간주함 • 자연의 내재적 가치 강조: 자연이 그 자체로 가치를 지니고 있다고 봄

| 선택지 분석 |

- ① 한대 기후 지역은 고위도에 위치하고, 열대 기후 지역은 적도 부근의 저위도에 위치한다.
- ② 건조(사막) 기후 지역은 연 강수량이 250mm 미만으로 매우 적고, 열대 기후 지역은 연 강수량이 500mm 이상으로 많다.
- ③ 침엽수림은 냉대 기후 지역에 넓게 분포한다. (가)와 (다)는 모두 나무가 자라기 힘든 지역에 해당한다.
- ④ 한대 기후 지역과 건조 기후 지역은 너무 춥거나 너무 건조하기 때문에 벼농사가 발달하기 어렵다.
- ⑤ (가)는 한대 기후, (나)는 열대 기후, (다)는 건조 기후에 속한다.

08 정답 ⑤ * 열대 기후와 건조 기후

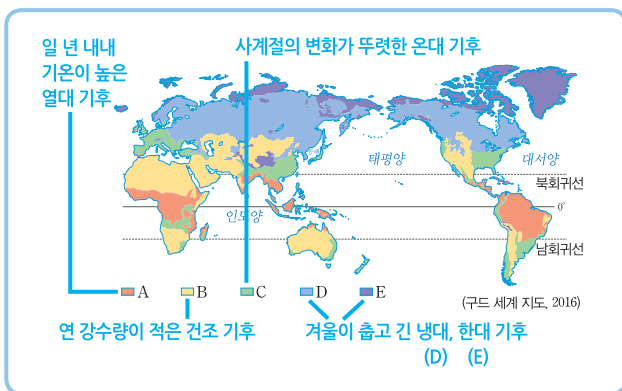
| 문제 + 자료 분석 |

- (가): 낙타, 모래 언덕, 오아시스 → 건조 기후 지역
- (나): 쌀, 향신료 → 열대(계절풍) 기후 지역

| 선택지 분석 |

- ① 건조 기후 지역은 연 강수량이 적고 기온의 일교차가 크다.
- ② 건조 기후 지역에서는 관개 농업을 통해 밀이나 대추야자를 재배한다.
- ③ 열대 기후 지역은 일 년 내내 기온이 높고 강수량이 많다.
- ④ 열대 기후 지역 주민들은 얇은 천으로 만든 간편한 옷을 입는다.
- ⑤ (가)는 건조 기후, (나)는 열대 기후 지역이다.

09 정답 ③ * 기후와 생활 양식



| 문제 + 자료 분석 |

- A는 열대, B는 건조, C는 온대, D는 냉대, E는 한대 기후이다.

| 선택지 분석 |

- ③ (가): 냉대 기후 지역에서는 타이가라고 불리는 침엽수림이 넓게 나타나 임업이 발달하였고, 침엽수를 이용해 통나무집을 만든다. → D
(나): 온대 기후 지역은 계절의 변화가 뚜렷하여 계절별로 옷차림이 다양하고, 쌀과 밀 등의 곡물이 많이 생산된다. → C

10 정답 ① * 열대 기후와 한대 기후

| 문제 + 자료 분석 |

- (가): 덥고 습한 기후를 피하기 위한 통풍이 잘되는 간편한 옷
- (나): 동물의 가죽과 털을 이용하여 만든 두꺼운 옷

| 선택지 분석 |

- ① (가): 열대 기후 지역은 덥고 습하기 때문에 열대 기후 지역의 주민들은 얇은 천으로 만든 간편한 옷을 주로 입는다.
(나): 한대 기후 지역은 겨울이 길고 몹시 추우므로 동물의 가죽이나 털을 이용하여 두꺼운 옷을 만들어 입는다.

11 정답 ① * 열대 기후와 한대 기후

| 문제 + 자료 분석 |

- (가): 열대 기후 지역의 얇고 간편한 옷이다.
- (나): 한대 기후 지역의 추위를 견디기 위한 두꺼운 옷이다.

| 선택지 분석 |

- ① (가)가 (나)보다 저위도에 위치한다. 세계 기후는 저위도에서 고위도로 가면서 대체로 열대, 건조, 온대, 냉대, 한대 기후 순으로 나타난다.
- ② 날고기의 섭취가 많이 이루어지는 곳은 (나)이다. 주민들은 필요한 영양분과 비타민 섭취를 위해 날고기를 먹는다.
- ③ (가)에서는 이동식 화전 농업과 플랜테이션 등이 이루어지지만, (나)에서는 기후 환경이 불리해 농업이 거의 이루어지지 않는다.
- ④ (가)는 (나)보다 연중 기온과 습도가 높은 편이어서 음식이 쉽게 상한다. 이를 방지하기 위해 열대 기후 지역에서는 기름에 볶거나 튀기는 요리가 발달했으며, 음식에 향신료를 많이 사용한다.
- ⑤ 전통 가죽을 만들 때 통풍을 중요시하는 지역은 (가)이다. 열대 기후 지역은 연중 기온이 높아 통풍이 잘 되도록 창문을 크게 만든다.

*** 기후와 의복**

열대 기후	덥고 습한 기후를 피하기 위한 얇고 간편한 옷
건조 기후	모래바람과 햇볕을 막기 위한 온몸을 감싸는 헐렁한 옷
한대 기후	추위를 견디기 위한 두꺼운 옷

12 정답 ④ * 카르스트 지형

💡 단서+발상

- ① 단서: 탑 모양의 봉우리를 그린 그림
- ② 발상: 사레 지역으로 중국 구이린과 베트남 할롱 베이이 제시되었다.
- ③ 적용: 지형의 형태와 사레 지역으로 (가)가 어떤 지형인지 분석한다.

| 문제 + 자료 분석 |

- (가): 탑 모양의 봉우리가 솟아 있음, 중국 구이린, 베트남 할롱 베이 → 탑 카르스트

| 선택지 분석 |

- ① 빙하에 의해 기반암이 깎여 형성된 지형으로는 빙식곡, 호른 등이 있다.
- ② 용암이 급격하게 식어 수축되며 형성된 지형으로는 주상절리가 있다.
- ③ 파랑에 의해 운반된 모래가 쌓여 형성된 지형으로는 사빈과 사주가 있다.
- ④ 탑 카르스트는 석회암이 빗물, 하천, 해수의 차별적인 용식 및 침식 작용을 받은 과정에서 남게 된 탑 모양의 봉우리를 말한다.
- ⑤ 바람이 운반한 모래가 기반암을 깎아 형성된 지형으로는 버섯바위가 있다.

오해 틀렸나?

⑤번을 정답으로 잘못 선택한 학생은 탑 카르스트 지형의 형성 과정에 대해 정확히 이해하지 못했다. 단순한 탑 모양의 봉우리만 보고 바람이 운반한 모래가 기반암을 깎아서 형성되었다고 잘못 판단한 것이다.

*** 카르스트 지형**

형성	• 탄산칼슘이 주성분인 석회암이 물과 반응하여 녹으면서 형성됨 • 약산성의 빗물이나 지하수와 만났을 때 잘 형성됨
분포	• 기반암인 석회암층이 넓고 깊게 분포하는 지역 • 강수량이 풍부한 열대 및 아열대 기후 지역
대표 지역	중국의 구이린, 베트남의 할롱 베이

| 문제 + 자료 분석 |

- (가): 인터넷을 통한 지역 정보 수집 → 실내 조사
- (나): 기사를 통한 지역 정보 수집 → 실내 조사
- (다): 누리집을 통한 지역 정보 수집 → 실내 조사
- (라): 설문 조사를 통한 지역 정보 수집 → 야외 조사
- (마): 수집한 정보를 그래프로 표현 → 지역 정보 분석

| 선택지 분석 |

- ① 인터넷을 통해 조사 지역의 인구 자료를 수집하는 건 실내 조사에 해당하므로 (가)는 적절하다.
- ② 조사 지역의 인구 증가와 관련된 신문 기사를 보고 지역 정보를 수집하는 건 실내 조사에 해당하므로 (나)는 적절하다.
- ③ 인터넷에서 누리집을 통해 조사 지역의 쓰레기 배출량에 대한 자료를 수집하는 것은 실내 조사에 해당하므로 (다)는 적절하지 않다.
- ④ 지역 주민을 대상으로 한 설문 조사를 실시해 지역 정보를 수집하는 건 야외 조사에 해당하므로 (라)는 적절하다.
- ⑤ 수집한 정보를 정리하고 분석하여 그래프로 표현하는 건 지역 정보 분석 단계에서 진행하므로 (마)는 적절하다.



대단원 마무리 문제

V 문제편 149~152p

01 정답 ④ * 산업화에 따른 변화

| 문제 + 자료 분석 |

- 우리나라는 산업화 과정 중 1차 산업 종사자 수 비중이 낮아지고, 2차·3차 산업 종사자 수 비중은 높아졌다.
- A는 1차, B는 2차, C는 3차 산업에 해당한다.

| 선택지 분석 |

- ① 산업화 과정에서 인구의 도시 거주 비중, 즉 도시화율이 높아졌다.
- ② 1차 산업(A) 종사자는 주로 촌락에 거주한다.
- ③ 2차 산업(B) 종사자 수 비중은 증가하였다가 감소하고 있다.
- ④ 우리나라에서 3차 산업인 서비스업 종사자 수 비중이 가장 높은 시·도는 서울이다. 서울은 농업 활동이 거의 이루어지지 않아 1차 산업 종사자 수 비중이 매우 낮을 뿐만 아니라 탈공업화 과정에서 2차 산업 종사자 수 비중도 크게 줄어들었기 때문이다.
- ⑤ 1차 산업(A) 종사자 수는 감소하고, 3차 산업(C) 종사자 수는 증가하였다.

02 정답 ③ * 선진국과 개발 도상국의 도시화 단계 비교

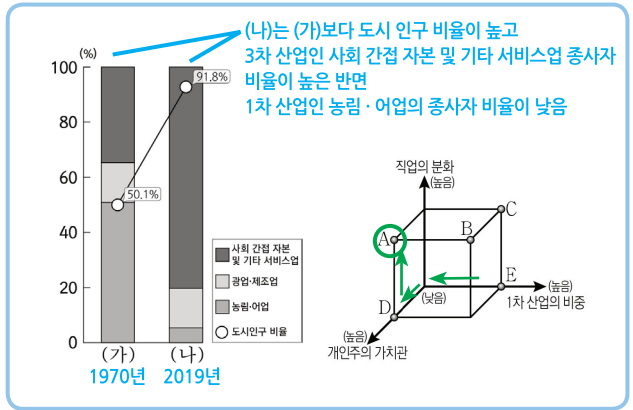
| 문제 + 자료 분석 |

- (가): 1960년 이후 도시화율이 완만하게 증가하는 추세의 도시화 종착 단계에 있으며 2020년 도시화율이 80%에 가까운 유럽의 독일
- (나): 1960년 도시화율이 매우 낮으며 이후 (가)보다 가파르게 도시화율이 증가하고 있으나 2020년 도시화율이 40%에 미치지 못하는 아프리카의 탄자니아

| 선택지 분석 |

- ① (가) 독일은 2020년에 도시화율이 약 80%이며, 전체 인구의 약 80%가 도시에 살고 있다. 따라서 2020년 독일의 도시 인구는 독일의 촌락 인구보다 많다.
- ② (나) 탄자니아는 도시 인구 비율의 지속적인 증가로 도시화율이 지속적으로 높아졌다. 따라서 탄자니아는 촌락 인구 비율이 지속적으로 감소하였다.
- ③ (가) 독일은 (나) 탄자니아보다 1차 산업 종사자 비중이 작고, 3차 산업 종사자 비중이 크다.
- ④ (나) 탄자니아는 (가) 독일보다 산업화 시작 시기가 늦다.
- ⑤ (나) 탄자니아는 (가) 독일보다 2000년 이후 도시화율의 증가 폭이 크며 도시화의 진행 속도가 빠르다.

03 정답 ① * 산업화와 도시화에 따른 변화



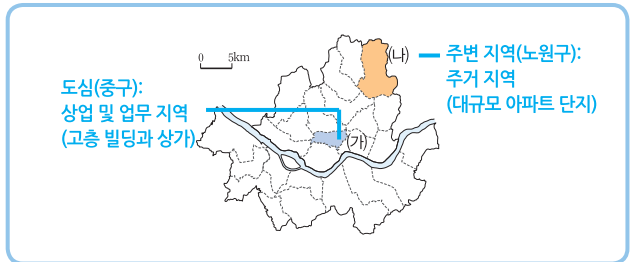
| 문제 + 자료 분석 |

- (가): (나)보다 도시 인구 비율이 낮고 사회 간접 자본 및 기타 서비스업의 종사자 비율이 낮은 반면 농림·어업의 종사자 비율이 높음 → 1970년
- (나): (가)보다 도시 인구 비율이 높고 사회 간접 자본 및 기타 서비스업의 종사자 비율이 높은 반면 농림·어업의 종사자 비율이 낮음 → 2019년

| 선택지 분석 |

- ① (나)는 (가)에 비해 농림·어업의 종사자 비율이 낮으므로 1차 산업의 비중의 낮음에 해당하는 A, D가 답의 후보군이다. (나)는 (가)에 비해 도시 인구 비율이 높으므로 개인주의 가치관의 높음에 해당하는 A, D가 여전히 답의 후보군이다. (나)는 (가)에 비해 도시 인구 비율이 높고 산업 구조가 고도화되었으므로 A, D 중에서 직업의 분화 정도가 높음에 해당하는 A가 정답이다.

04 정답 ③ * 도심과 주변 지역



| 문제 + 자료 분석 |

- (가): 상업과 업무 기능이 집중된 도심
- (나): 주거 기능이 발달한 주변 지역

| 선택지 분석 |

- 그림의 A에는 도심일수록 수치가 큰 항목이 들어가야 하고, B에는 주변 지역일수록 수치가 큰 항목이 들어가야 한다. 따라서 A에는 평균 지가와 출근 시 순유입 인구, B에는 상주인구가 들어갈 수 있다.
- ③ A - 평균 지가, B - 상주인구가 정답이다.

05 정답 ② * 교통 발달에 따른 변화

| 문제 + 자료 분석 |

- 철도 노선 확대, 시외 고속버스 노선 증가와 같은 수도권 광역 교통망의 발달로 서울로의 통근·통학권 범위가 점차 넓어지게 되었다.

| 보기 분석 |

- ⑦ 통근권의 확대는 도로 연장이나 전철 노선 연장 등 대중교통 노선의 연장으로 서울과 경기도의 시간 거리가 단축되면서 나타난 변화이다.

01 정답 ⑤ * 탐 카르스트의 특징

다음 자료의 ㉠ 지형 형성 원인으로 옳은 것은?

석회암이 빗물, 하천, 지하수의 차별적인 용식 및 침식 작용을 받게 된 탐 모양의 봉우리

중국 남부 구이린(桂林)은 빼어난 경관으로 예로부터 시인과 화가들의 작품 소재가 된 곳입니다. ㉠ 기이하게 솟아 있는 탐 카르스트가 강과 함께 어우러져 있어 세계적인 관광지가 되었습니다.



- ① 화산 활동 용암동굴, 주상 절리 등
- ② 바람의 침식 작용 버섯바위 등
- ③ 빙하의 침식 작용 U자곡 등
- ④ 파랑의 퇴적 작용 모래사장(사빈) 등
- ⑤ 석회암의 용식 작용 탐 카르스트는 기반암인 석회암이 용식 작용을 받아 형성됨

| 문제 + 자료 분석 |

- 중국 남부 구이린에 위치하며 기이하게 솟아 있는 탐 카르스트는 세계적인 관광지이다.
- 탐 카르스트는 카르스트 지형의 일종으로 탄산칼슘을 주성분으로 하는 석회암이 물과 반응하여 녹는 용식 작용으로 형성된다.

| 선택지 분석 |

- ① 화산 활동으로 형성된 지형으로는 용암이 흘러가면서 만들어 낸 용암동굴, 용암이 굳으면서 다각형의 기둥 모양으로 쪼개진 주상 절리 등이 있다.
- ② 바람의 침식 작용으로 형성된 지형으로는 버섯바위 등이 있다. 버섯바위는 바람에 날린 모래가 바위의 아랫부분을 깎아서 만들어진 버섯 모양의 바위이다.
- ③ 빙하의 침식 작용으로 형성된 지형으로는 U자곡 등이 있다. U자곡은 거대한 빙하가 골짜기를 따라 중력이 작용하는 방향으로 이동하면서 만들어지는 U자 모양의 골짜기이다.
- ④ 바다와 육지가 만나는 해안에서는 바닷물이 바람의 영향을 받아 일렁이는 물결인 파랑의 퇴적 작용이 나타나 모래사장(사빈) 등이 형성된다.
- ⑤ 탐 카르스트는 석회암이 빗물, 하천, 해수의 차별적인 용식 및 침식 작용을 받아 형성된 탐 모양의 봉우리를 말한다.

* 용식 작용

용식 작용이란 암석의 구성 물질이 물과 화학적으로 반응하여 녹는 과정을 의미한다. 석회암의 주성분인 탄산칼슘이 빗물이나 지하수에 의해 용식되면 다양한 카르스트 지형이 형성된다. 용식 작용은 고온 다습한 환경에서 활발하기에 열대 기후 지역에서 활발하게 나타난다.



▲ 중국 구이린

02 정답 ① * 주요 자연재해

다음은 자연재해에 관한 안전 안내 문자 내용의 일부이다. 이에 대한 설명으로 옳은 것은? (단, (가)~(라)는 각각 대설, 지진, 태풍, 황사 중 하나임.)

태풍 영향권에 들 것으로 전망되니 등산로 및 하천에 많은 비와 강한 바람을 동반 진입하지 마시고 간판 등의 낙하에 주의하십시오.

○○시 북쪽 지역에서 규모 5.5 지진이 이/가 발생하였으니 피해를 입지 않도록 대비하시기 바랍니다.

오늘 퇴근 시간대 대설(으)로 교통 혼잡과 빙판길 안전사고가 우려되니 가급적 대중교통을 이용해 주시기 바랍니다.

현재 황사 경보 발효 중이니 야외 활동 시 마스크를 착용하시기 바라며, 창문을 닫아 먼지 유입을 차단하십시오.

- ① (가)는 주로 우리나라보다 저위도 해상에서 발원한다. 태풍은 주로 저위도 열대 해상에서 발원하여 고위도로 이동함
- ② (나)는 기후적 요인에 의해 발생하는 자연재해이다. 지형적
- ③ (다)는 북태평양 고기압이 한반도 전역에 영향을 미칠 때 주로 발생한다. 주로 겨울에 발생 여름
- ④ 울릉도의 우데기는 (라)를 대비한 시설이다. (다) 대설
- ⑤ (다)는 (가)보다 선박에 주는 피해가 크다 작다

| 문제 + 자료 분석 |

- (가): 등산로 및 하천 주변에서 피해 발생+간판 낙하 → 호우와 강풍을 동반하는 태풍
- (나): 규모 5.5 강도 → 땅의 흔들림을 측정하여 수치로 나타내는 지진
- (다): 교통 혼잡과 빙판길 안전사고 유발 → 주로 겨울에 발생하는 대설
- (라): 야외 활동 시 마스크 착용+실내로의 먼지 유입 차단 필요 → 먼지 이동과 관련된 황사

| 선택지 분석 |

- ① 태풍은 저위도 열대 해상에서 발원하여 고위도로 이동한다.
- ② 지진은 땅이 흔들리는 현상으로 지형적 요인에 의해 발생한다.
- ③ 대설은 주로 겨울에 발생한다. 북태평양 고기압이 한반도 전역에 영향을 미치는 시기는 한여름이다.
- ④ 울릉도의 우데기는 대설을 대비한 방설벽이다.
- ⑤ 선박은 대설보다 태풍에 의한 피해를 많이 입는다. 선박은 강풍 또는 지진에 의해 파도가 강해질 때 피해를 입을 가능성이 높다.

* 태풍, 지진, 대설, 황사의 특징

구분	태풍	지진	대설	황사
발생 시기	주로 여름과 가을	특정 시기 없음	주로 겨울	주로 봄
발생 원인	열대 해상의 해수 온도 상승	맨들의 대류 운동	대륙성 기단의 세력 강화	유라시아 대륙 내부의 사막화
피해 유형	산사태, 홍수, 간판 낙하	산사태, 건물 붕괴	빙판길 사고, 건물 붕괴	호흡기 및 안과 질환, 항공기 결항



01 인간, 사회, 환경을 바라보는 관점 문제편 156~157p

01 정답 ③ * 사회적 관점

| 문제 + 자료 분석 |

- 법·제도, 사회 구조가 개인에게 미치는 영향과 정책 결정 과정에서의 정부와 시민의 역할을 살펴봄 → 사회적 관점

| 선택지 분석 |

- ① 현재의 모습이 있기까지 변화해 온 자취를 통해 시대적 배경과 맥락을 살펴보는 것은 시간적 관점이다.
- ② 특정 현상과 관련된 문제를 규범적 차원에서 살펴보는 것은 윤리적 관점이다.
- ③ 사회적 관점은 개인의 행동이 개인을 둘러싼 사회 구조나 사회 제도의 영향을 많이 받는다는 점을 고려하는 관점이다.
- ④ 과거와 현재의 관계를 탐구하며 시대의 변화 속에서 나타나는 사회 현상을 이해하는 것은 시간적 관점이다.
- ⑤ 규범적인 판단을 통해 더욱 바람직하고 행복한 사회가 될 수 있도록 도움을 주는 것은 윤리적 관점이다.

02 정답 ④ * 여러 가지 관점

| 문제 + 자료 분석 |

- ㉠: '시간의 흐름'에 따른 기후의 변화와 해수면 상승 → 시간적 관점
- ㉡: 기후 변화가 '특정 지역'에 미치는 영향 → 공간적 관점
- ㉢: 기후 변화에 대한 '사회적 합의' → 사회적 관점
- ㉣: 기후 변화에 대한 '선진국들의 책임' 강조 → 윤리적 관점

| 보기 분석 |

- ㉠ 과거와 현재의 기후 변화를 시대적 배경과 맥락 속에서 살펴보고 과거와 현재의 기후 변화를 파악하여 그것이 섬나라에게 어떤 영향을 미쳤는지 알아보아야 한다.
- ㉡ 기후 변화로 인한 해수면 상승이 다른 지역에 어떤 영향을 끼칠 수 있는지 탐구해야 한다. 해수면 상승으로 주변 지역과의 협력이나 갈등이 나타날 수 있기 때문이다.
- ㉢ 파리 협정은 기후 변화에 대한 사회적 합의로 사회적 관점의 시각이다.
- ㉣ 기후 변화에 대한 선진국들의 책임을 강조하는 것은 윤리적 관점이다.

* 인간, 사회, 환경을 바라보는 다양한 관점

시간적 관점	현재의 모습을 시대적 배경과 시간적 흐름 속에서 살펴보는 것
공간적 관점	사회 현상을 위치, 장소, 이동 등 공간적 맥락에서 살펴보는 것
사회적 관점	사회 현상을 사회 구조 및 사회 제도와의 관계 속에서 살펴보는 것
윤리적 관점	사회 현상에 대해 좋고 나쁨, 옳고 그름과 같은 도덕적 가치 판단과 규범적 방향성에 기준을 두어 살펴보는 것

03 정답 ② * 윤리적 관점

| 문제 + 자료 분석 |

- 바람직한 해결책, 도덕적 행위를 판단하는 기준을 찾으려 함 → 윤리적 관점

| 보기 분석 |

- ㉠ 환경 보호라는 윤리적 관점에서 쓰레기 매립지를 선정하는 것이다.

- ㉡ 공간적 관점에서 쓰레기 매립지가 지역 환경에 미치는 영향을 조사한 것이다.
- ㉢ 쓰레기 매립지 선정을 둘러싼 대립적인 입장을 정리하는 것은 윤리적 관점에서 조사한 것이다.
- ㉣ 시간적 관점에서 과거 사례를 조사한 것이다.

04 정답 ③ * 윤리적 관점

| 문제 + 자료 분석 |

- 커피 소비에 있어 갑은 인권 측면에서, 을은 인간 존엄성 측면에서 대화를 나누고 있다.

| 선택지 분석 |

- ① 공간적 관점은 위치와 장소, 분포 양상 등에 중점을 두고 사회 현상을 살펴보는 관점이다.
- ② 사회적 관점은 사회 구조와 사회 제도를 중심으로 사회 현상을 탐구하는 관점이다.
- ③ 제시문은 커피 소비에 있어 다른 사람의 인권과 공동체의 선을 고려하고 있으므로 윤리적 관점에 해당한다.
- ④ 시간적 관점은 역사적 배경과 시대적 맥락에 초점을 두고 사회 현상을 살펴보는 관점이다.
- ⑤ 통합적 관점은 시간적, 공간적, 사회적, 윤리적 관점을 통합하여 인간, 사회, 환경을 이해하는 관점이다.

05 핵심 키워드: 문제 해결, 바람직한 사회

모범 답안 커피 생산 과정에서 벌어지는 아동의 노동 착취나 생산자가 정당한 임금을 받지 못하는 문제를 해결하고 바람직한 사회로 나아가기 위해서 윤리적 관점으로 해당 사례를 바라보아야 한다.

| 문제 + 자료 분석 |

- 윤리적 관점은 인간 존엄성, 인권과 같은 인류의 보편적 가치를 중시하며 사회 현상을 도덕적 가치 판단과 규범적 방향성에 기준을 두고 살펴본다.

* 채점 기준

바람직한 사회와 문제 해결에 대해 언급한 경우	100 %
윤리적 관점을 언급한 경우	30 %

06 정답 ① * 여러 가지 관점

| 문제 + 자료 분석 |

- 갑: '농촌과 도시'의 노인 인구 비율 비교 → 공간적 관점
- 을: 노인 부양을 위한 '기초 연금', 국가 재정 부담 문제 → 사회적 관점
- 병: 노인 부양 부담을 사회와 정부가 '책임'지는 것이 '바람직'하다고 생각 → 윤리적 관점
- 정: 1960년대 이후 고령화 현상 '후이' 파악 → 시간적 관점

| 보기 분석 |

- ㉠ 농촌의 노인 인구 비율이 도시보다 높게 나타난다는 것은 농촌과 도시 두 공간을 비교하는 것이다.
- ㉡ 노인 부양을 위한 기초 연금 제도는 사회 제도적 측면에 해당한다.
- ㉢ 노인 부양 부담에 대해 사회와 정부가 책임지는 것이 '바람직하다'라는 평가는 병의 가치 판단이다.
- ㉣ 정은 시간적 맥락에서 1960년대 이후 고령화 현상이 가속화되고 있다는 점을 설명하고 있다.

* 가치 개입과 가치 중립

가치 개입	탐구 과정에서 옳고 그름, 선과 악, 당위적 문제 등에 대해 연구자의 주관이나 가치가 고려되거나 반영되는 것
가치 중립	탐구 과정에서 연구자의 주관적인 가치나 이해관계를 배제하고 객관적으로 탐구를 수행하는 것